

# Toets 3

1

**Schrijf de som op en reken uit.**

**a**

Youssef en Soumia staan in de lift van hun torenflat. Youssef woont op verdieping 33. Op verdieping 17 stapt Soumia uit. Hoeveel verdiepingen moet Youssef nog naar boven gaan?

..... = .....

**c**

De lift stopt op verdieping 8. Leonie blijft staan want ze woont nog 14 verdiepingen hoger. Op welke verdieping woont Leonie?

..... = .....

**b**

Mark woont 6 verdiepingen lager dan Youssef. Op welke verdieping woont Mark?

..... = .....

**d**

Leonie woont twee keer zo hoog als Marijke. Op welke verdieping woont Marijke?

..... = .....

2

**a**

Aan de linkerkant van de straat staan 17 huizen. Aan de rechterkant staan er evenveel. Hoeveel huizen staan er in totaal?

..... = .....

**c**

In de Flinkstraat staan 42 huizen. Daarvan worden 14 huizen gesloopt. Hoeveel huizen blijven er over?

..... = .....

**b**

De flat in de Van Goghlaan is 8 verdiepingen hoog. Op elke verdieping zijn 9 woningen. Hoeveel woningen zijn er in de flat?

..... = .....

**d**

Langs beide kanten van de straat staan evenveel lantaarnpalen. Samen zijn het 76 lantaarnpalen. Hoeveel lantaarnpalen staan er aan de linkerkant?

..... = .....

3

**Stel eerst de vraag, schrijf dan de som op en reken uit**

**a**

In de trein naar Maastricht zitten 182 mensen. In Den Bosch stappen er 45 mensen in.

.....

**b**

Op perron 1 staan 126 mensen te wachten. Als de trein naar Arnhem aankomt, stappen er 56 mensen van perron 1 in.

.....

**c**

In de trein naar Rotterdam zitten 217 mensen. Op station Delft stappen er 24 mensen uit én 78 mensen in.

.....

**d**








In de trein zitten 261 mensen. In de laatste 5 minuten stappen er nog 48 mensen in.

.....

4

**Bij de supermarkt.**

Laat zien hoe je het uitrekent.

	Mandarijnen	€ 1,80	€ 1,59
	Aardbeien	€ 1,75	€ 1,35
	Roomboter	€ 1,69	€ 1,49
	Brood	€ 1,85	€ 1,69
	Appelmoes	€ 1,29	€ 0,85
	Wasverzachter	€ 3,25	€ 2,98
	IJslollies	€ 2,85	€ 2,19

<p><b>a</b> Laurens gaat naar de supermarkt. Hij koopt mandarijnen, aardbeien, brood en ijslollies. Hoeveel geld moet Laurens betalen?</p>	
<p><b>b</b> Karin gaat naar de supermarkt met 10 euro. Kan zij dit allemaal kopen: roomboter, appelmoes, wasverzachter en ijslollies? Hoeveel houdt ze over / komt ze te kort?</p>	
<p><b>c</b> Samira koopt alleen de goedkoopste drie producten. Hoeveel geld moet ze betalen?</p>	

5

**Stel eerst de vraag, schrijf dan de som op en reken uit.****a**

Er zijn 4 zakken met broodjes.  
In elke zak zitten 8 broodjes.

.....

**b**

Er zijn 4 pakken melk.  
Uit 1 pak kun je 5 glazen melk schenken.

.....

**c**

Er zijn 32 kaarsen en er zijn 8 tafels.

.....

**d**

Aan een tafel zitten 6 kinderen.  
Er zijn 7 tafels.

.....