

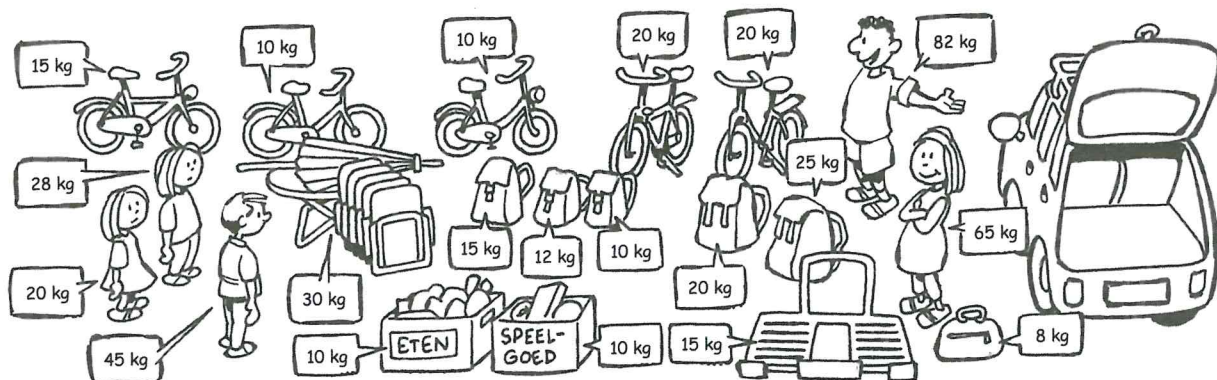

# Taak 12 Vakantie

1

## Met de auto naar het zuiden.

a

De familie Van Geest gaat op vakantie. In de auto kan 500 kilo bagage. Kunnen alle spullen en mensen mee?



b

Het fietsenrek kan 100 kilo dragen. Kunnen alle fietsen mee?

.....

c

Hoeveel kilo bagage hebben ze per persoon ongeveer bij zich?

.....

d

Moeder wil nog een tas meenemen. Die tas weegt ongeveer 20 kilo. Kan die nog mee?

.....

2

## Op de camping.

a

De familie Van Geest gaat 15 dagen kamperen. Voor de tent betalen ze per dag € 5,-. Per volwassene kost het per dag € 4,- en per kind € 2,50. Wat moeten zij betalen?


**Tip!** Je kunt het op twee manieren uitrekenen:

- 1 Je kunt uitrekenen hoeveel ze per dag moeten betalen en dat  $\times 15$  doen.
- 2 Je kunt per persoon uitrekenen wat het kost en dat bij elkaar optellen.


b

Het gezin Buitenhek, vader, moeder en 2 kinderen kampeert 21 dagen. Voor de kinderen kost het € 5,- per dag en voor een volwassene kost het € 7,50. Voor de tent kost het € 6,-. Wat moeten ze betalen?

Reken uit:



Reken uit:



3

**Van alles op de camping.**

**a**

Op de camping passen 14 tenten op een kampeerveld. Hoeveel tenten kunnen er op 12 velden?

.....

**b**

Björn heeft in totaal 70 euro en hij gaat 14 dagen op vakantie. Hoeveel geld kan hij gemiddeld opmaken per dag?

.....

**c**

De afstand van huis tot de camping is 650 km. Je fietst 45 km per dag. Je hebt al 405 km gefietst.

Hoeveel dagen heb je al gefietst als je tussendoor 2 rustdagen hebt gehad?

.....

**d**

De campingwinkel is open van 8.00 uur tot 17.00 uur. Tussen 13.30 uur en 15.00 uur is de winkel gesloten.

Hoeveel uur is de winkel open per dag? En hoeveel uur per week?

.....

.....

4

**Hoeveel passagiers?**

**a**

In het vliegtuig van Amsterdam naar Buenos Aires zitten 278 mensen. Hij maakt een tussenlanding in Madrid, daar stappen 69 mensen in en 56 mensen uit.

Hoeveel mensen gaan er naar Buenos Aires? .....

**b**

In het vliegtuig van Amsterdam naar Los Angeles zitten 261 mensen. Het vliegtuig maakt een tussenlanding in New York, daar stappen 124 mensen uit en 97 mensen in.

Hoeveel mensen gaan er naar Los Angeles? .....

5

**Een reisje naar Santiago de Compostela in Spanje.**

**a**

Je gaat met het vliegtuig van Amsterdam naar Santiago de Compostela. Het is ongeveer 1500 kilometer. Het vliegtuig vliegt ongeveer 800 kilometer per uur. Hoe lang is het vliegen?

.....

**b**

Met de auto is het 1980 kilometer. Stel dat je per uur 90 kilometer rijdt. Hoeveel uren doe er dan over?

.....

**c**

Met de fiets is het 2250 kilometer. Stel dat je per dag 45 kilometer fietst. Hoeveel dagen ben je onderweg?

.....

**d**

Lopend is het ongeveer 2400 kilometer. Stel dat je 25 kilometer per dag loopt. Na hoeveel dagen kom je in Santiago de Compostela aan?

.....