

Sinterklaas rijdt door de straat. Aan de ene kant zijn de huizen met de even nummers en aan de andere kant de huizen met de oneven nummers. Kun jij zeggen welke huizen je aan welke kant kunt vinden?








Kies uit:

1 - 4 - 7 - 13 - 31 - 55 - 56 - 77 - 88 - 100 - 104 - 110

even nummers:

oneven nummers:

In elke zak zitten 10 pakjes. Hoeveel pakjes zijn het bij elkaar?

	..... pakjes
	..... pakjes
	..... pakjes
	..... pakjes
	..... pakjes
	..... pakjes
	..... pakjes