


Winkelen deel 1 Naam: _____ groep: _____

De kinderen hebben allemaal 1 euro gekregen en gaan naar de winkel. Hoeveel krijgen ze terug?

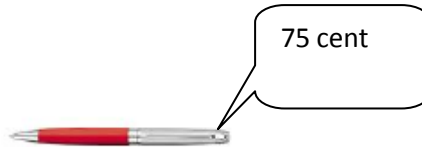
1. Thomas koopt spekkies.



2. Marleen koopt dropveters.



3. Jelmer koopt een pen.



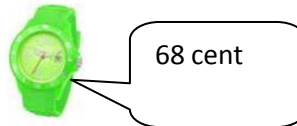
4. Rachel koopt een puntenslijper.



5. Brechje koopt een beertje.



6. Stein koopt een speelgoedhorloge.



7. Sylvia koopt dinosaurus.



8. Niels koopt een haai.



9. Chiel koopt een aapje.

