






Er zijn 6 kinderen.
Ieder kind krijgt 2 kersen.
Hoeveel kersen zijn er te weinig?




2. In de kist zitten 10 kersen. Hoeveel kersen zitten er onder het plankje?




3. Twee kinderen verdelen de kersen. Ieder kind krijgt evenveel.
Hoeveel krijgt ieder kind?



4. Twee kinderen verdelen de kersen. Ieder kind krijgt evenveel.
Hoeveel krijgt ieder kind?




5. Ik wil graag 20 kersen hebben. Hoeveel kersen kom ik te kort?



6.



Zes kinderen verdelen 14 kersen. Hoeveel kersen krijgt elk kind?



7.



Drie kinderen verdelen 12 ballonnen. Hoeveel ballonnen krijgt elk kind?

