


Naam:



Groep 3




Er zijn 4 kinderen.  
Ieder kind krijgt 2 kersen.  
Hoeveel kersen zijn er te weinig?



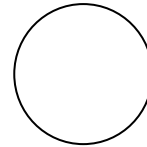
2. In de kist zitten 10 kersen. Hoeveel kersen zitten er onder het plankje?



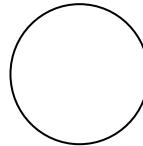
3. Twee kinderen verdelen de kersen. Ieder kind krijgt evenveel.  
Hoeveel krijgt ieder kind?



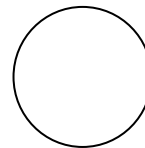
4. Twee kinderen verdelen de kersen. Ieder kind krijgt evenveel.  
Hoeveel krijgt ieder kind?



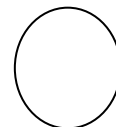
5. Ik wil graag 20 kersen hebben. Hoeveel kersen kom ik te kort?




6. In een doos zitten 6 potloden. Hoeveel potloden zitten in twee dozen?



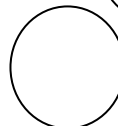
Drie kinderen verdelen 6 ballonnen. Hoeveel ballonnen krijgt elk kind?



8. Emma heeft drie zakjes met 5 snoepjes. Hoeveel snoepjes heeft Emma?



9. Eén zakje knikkers kost 5 euro. Hoeveel kosten 4 zakjes knikkers?



10. Vul de reeks aan: 1 - 3 - ..... - ..... - ..... - .....