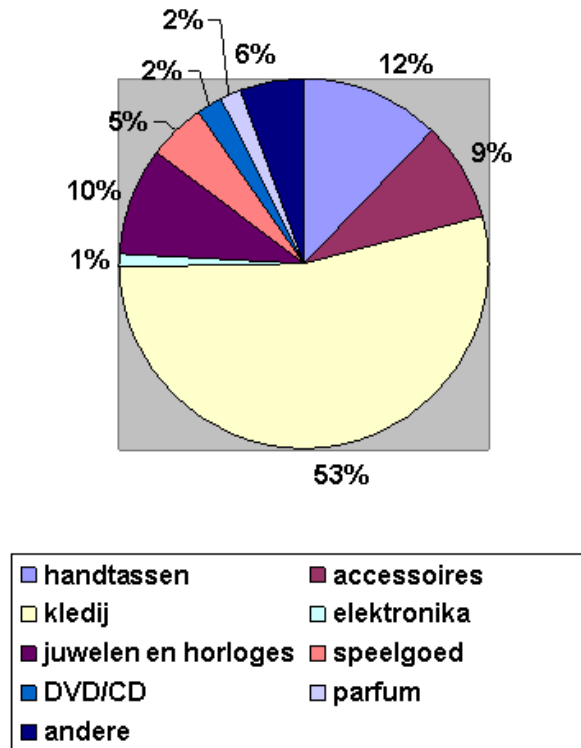


## Tabellen en grafieken

### 1. Namaakartikelen



In dit figuur kun je de aantallen zien van in beslag genomen "namaakartikelen". Namaakartikelen zijn spullen die, heel logisch, nagemaakt zijn van dure merken. Zo kun je dus een heel goedkoop Nike t-shirt kopen, het is alleen niet de echte, maar ziet er wel net zo uit. Veel mensen kopen deze spullen dus, omdat ze goedkoop zijn en omdat ze eruit zien als dure merken. Maar dit mag dus niet, daarom wordt het is beslag genomen.

Vragen:

1. Wat wordt het meeste nagemaakt?

.....

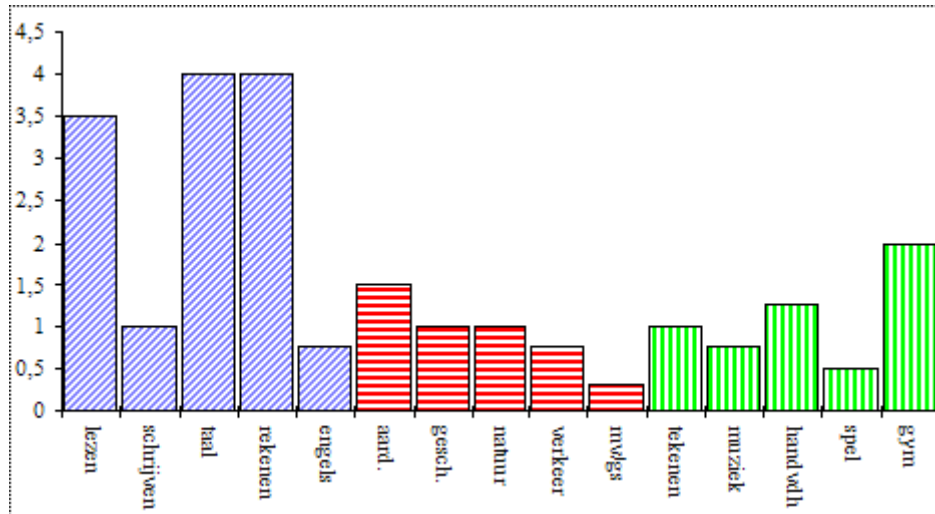
2. Wat wordt het minste nagemaakt?

.....

3. Zet alle spullen in de volgorde van klein naar groot, dus welke het minst nagemaakt wordt naar welke het meest nagemaakt wordt.

.....  
.....  
.....  
.....

## 2. Aantal lessen per week van groep 7



Vragen:

1. Welke 2 vakken krijg je het meeste in de week?

.....

2. Hoeveel uur les heb je per week?

.....

3. Lezen is 3,5 uur en spel maar 0,5 uur. Waarom is dit denk je?

.....

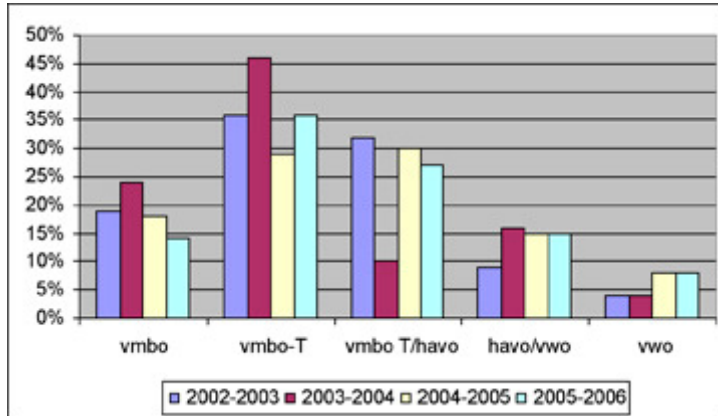
4. Hoeveel uur wordt er per week Engels gegeven?

.....

5. Welk vak vind je zelf het leukst?

.....

### 3. Groep 8



Deze grafiek laat zien naar welk niveau de kinderen van groep 8 gingen in de voorgaande schooljaren.

Vragen:

1. In welk schooljaar gingen de meeste kinderen naar vmbo-T? .....
2. In 2 schooljaren is het aantal havo/vwo gelijk. Welke schooljaren zijn dat?.....
3. Hoeveel procent van de kinderen gingen in 2003-2004 naar vmbo-T/havo? .....
4. In welke 2 schooljaren is het aantal kinderen die naar het vwo gingen gelijk gebleven?.....
5. In welk schooljaar gingen de minste kinderen naar het vwo?.....