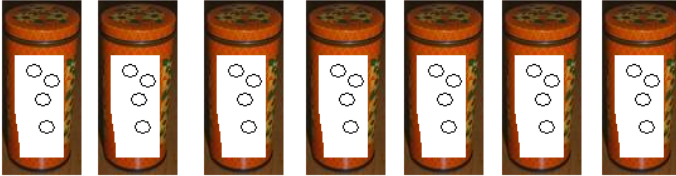


Naam:

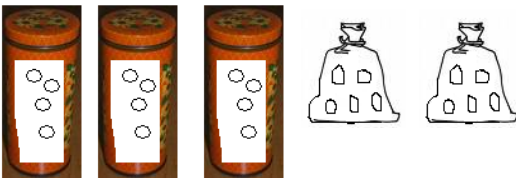
Niels heeft 3 zakken met 5 koekjes. Hoeveel koekjes heeft Niels?



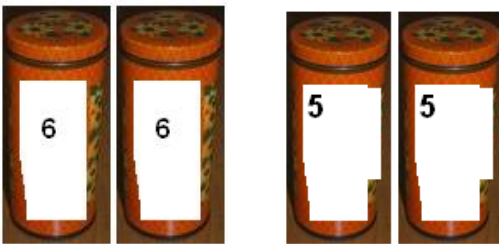
Sam heeft 7 blikken met 4 koekjes. Hoeveel koekjes heeft Sam?



Bram heeft 3 blikken met 4 koekjes. En 2 zakken met 5 koekjes. Hoeveel koekjes heeft Bram?



Rachel heeft 2 blikken met 6 koekjes en 2 blikken met 5 koekjes. Hoeveel koekjes heeft Rachel?



Jelmer heeft 1 blik met 6 koekjes en 2 blikken met 5 koekjes. Hoeveel koekjes heeft Jelmer?

