

Proefwerk; Op jezelf

Hoofdstuk 4: Je huis inrichten

Naam:

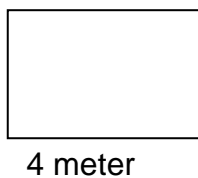


Groep: Datum:

1. Wil je laminaat op de vloer. Dan zul je eerst je kamer moeten meten

- 1 m = cm 600 cm = m
 300 = m 4 ½ m = cm
 cm
 ½ m = cm 150 cm = m
 1,5 m = cm 2,5 m = cm
 250 = m 600 cm = m
 cm


2. Een rol vloerbedekking is 4 meter breed. Kijk hoeveel meter vloerbedekking je moet kopen.



3 meter

4 meter


Ik koop meter



4 meter

4 meter

Ik koop meter



4,50 meter

3 meter

Ik koop meter



3. Vloerbedekking is te koop in alle kleuren en prijzen. Reken uit hoe duur het is en vul je antwoord in.

Hoeveel koop je?	Prijs per meter					
	€ 10	€ 25	€ 40	€ 60	€ 100	€ 150
3 meter
4,5 meter
5 meter
2,5 meter

4. De muren van de kamer geef je ook een leuke kleur. Hiervoor gebruik je muurverf. Op de pot staat vaak hoeveel muur je ermee kunt verven. Reken van de volgende muren uit hoeveel vierkante meter het is.

Breed	hoog		
	1 meter	2 meter	2,5 meter
4 meter m ² m ² m ²
6 meter m ² m ² m ²
8 meter m ² m ² m ²



5. Op de emmer muurverf staat hoeveel m² je ermee kunt verven. Op de emmer die gekocht heb staat dat je er 8 m² mee kunt verven.

Reken uit hoeveel emmers je nodig hebt

7 m² = emmer 20 m² = emmers

9 m² = emmers 19 m² = emmers

14 m² = emmers 40 m² = emmers






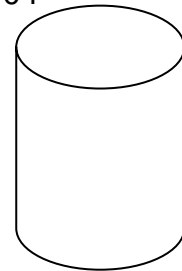
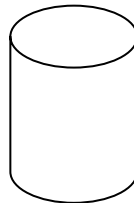
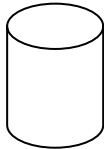
6. Er zijn kleine en grote blikken en emmers met verf. Zet de goede inhoud op het blik.

Kies uit

- 250 ml
- 2,5 l

- 500 ml
- 5 l

- 750 ml
- 10 l



7. Vul in.

1 l = 1000 ml

0,5 l = ml

¼ l = ml

¾ l = ml

½ l = ml

1000 ml = l

2500 ml = l

4000 ml = l

2000 ml = l

3000 ml = l

