

Alles Telt: Blok 3 les 10

TV-gids van 25 december (eerste kerstdag):

17.00	Tekenfilm: Dora
17.25	Spongebob
17.35	Johnny Test
17.48	Winx club
17.53	Go Diego go
18.07	Fifi en haar bloemenvriendjes
18.21	Skyland
19.00	the Amanda show

In je schrift:

- 1) Schrijf alle tijden zoals je ze zegt. Voorbeeld: 17.00 is vijf uur 's middags.**
- 2) Je kijkt naar alle programma's tot en met Skyland. Hoe lang kijk je tv?**
- 3) Hoe lang duurt elk programma? Voorbeeld Dora duurt 25 minuten.**
- 4) Welk programma duurt het kortst?**
- 5) Welk programma duurt het langst?**

Schrijf op hoe laat ieder programma begint. De programma's komen direct na elkaar.


8.30	Mickey's Kerstfeest (duurt een uur)
	De kerstman vergeet de cadeautjes (duurt anderhalf uur)
	Wie is de echte kerstman? (duurt anderhalf uur)
	Sneeuwballen gooien (duurt 2 uur)
	De verdrietige kerstboom (duurt een uur)
	Rudolph heeft plezier (duurt drie kwartier)

De kerstman is dol op tv kijken, soms wel uren lang. Gisteren begon hij 's morgens om 7 uur te kijken en hij ging pas om 2.00 's nachts naar bed. Hoe lang heeft de kerstman tv gekeken? _____

1 rendier heeft 4 poten.

Vul het schema nu verder in:

1 rendier	4 poten
2 rendieren	
3 rendieren	
4 rendieren	
5 rendieren	
6 rendieren	
7 rendieren	
8 rendieren	
9 rendieren	




Alles Telt: Blok 3 les 10

In 1 kerstkrans komen 5 kaarsen.

Vul het schema nu verder in.

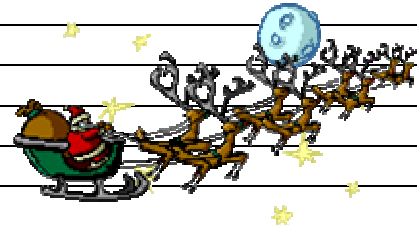
1 kerstkrans	5 kaarsen
2 kerstkransen	
3 kerstkransen	
4 kerstkransen	
5 kerstkransen	
6 kerstkransen	
7 kerstkransen	
8 kerstkransen	
9 kerstkransen	
10 kerstkransen	



Voor de arrenslee rennen 8 rendieren.

Vul het schema verder in.

1 arrenslee	8 rendieren
2 arrensleeën	
3 arrensleeën	
4 arrensleeën	
5 arrensleeën	
6 arrensleeën	
7 arrensleeën	
8 arrensleeën	
9 arrensleeën	
10 arrensleeën	



Op ieder cadeautje komen 6 sterren.

Vul het schema verder in.

1 cadeautje	6 sterren
2 cadeautjes	
3 cadeautjes	
4 cadeautjes	
5 cadeautjes	
6 cadeautjes	
7 cadeautjes	
8 cadeautjes	
9 cadeautjes	
10 cadeautjes	

