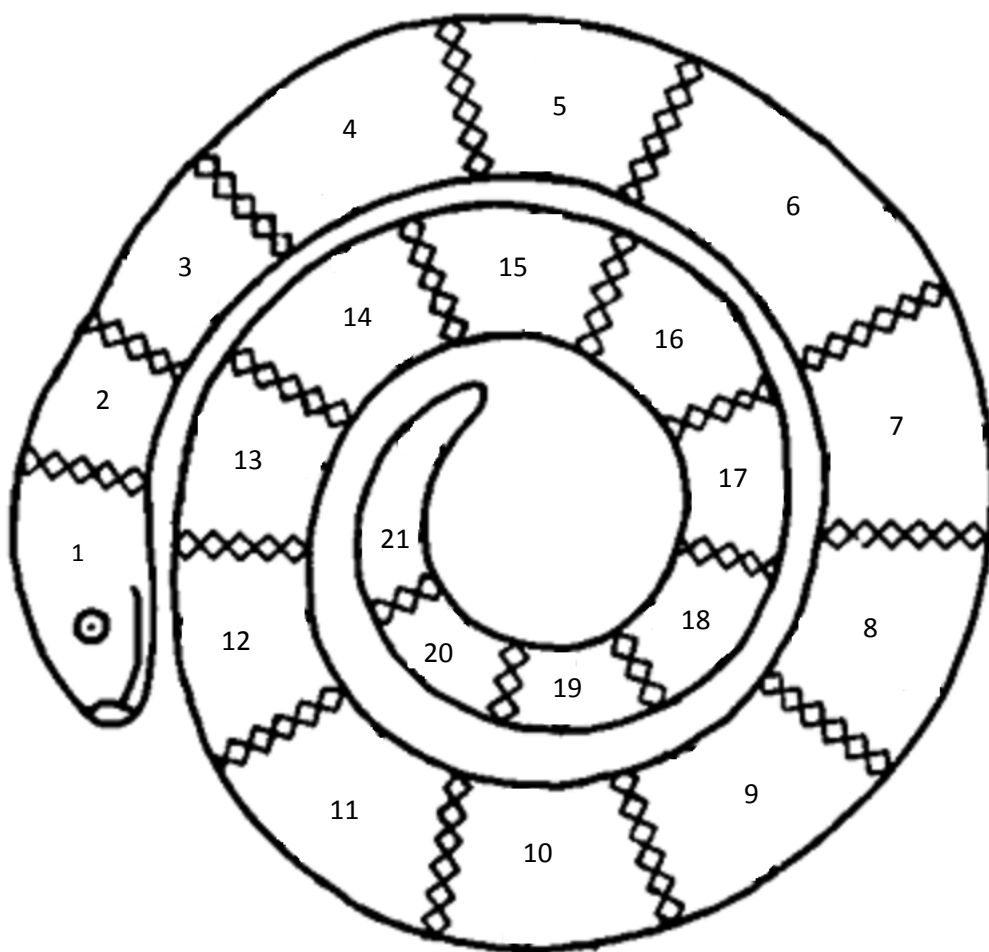


# Keuzewerkboekje

## deel 1



Naam: .....

Hallo!

Dit is het eerste deel van de serie keuzewerkboekjes. Deze werkboekjes staan vol met leuke opdrachten, puzzels, sommen, raadsels en kleurplaten. Je kunt ze helemaal zelfstandig maken, maar als het even moeilijk is, kun je natuurlijk hulp vragen aan je juf of je meester. Als je een bladzijde af hebt, kun je dat inkleuren in de slang op de voorkant. Iedere bladzijde heeft een eigen vakje met een nummer. Zo kun je in 1 keer zien welke bladzijdes je nog moet maken. Wel zijn er een paar regels over de kleuren van de slang:

Groen: Als je de bladzijde makkelijk vond.

Oranje: Als je de bladzijde een beetje moeilijk vond.

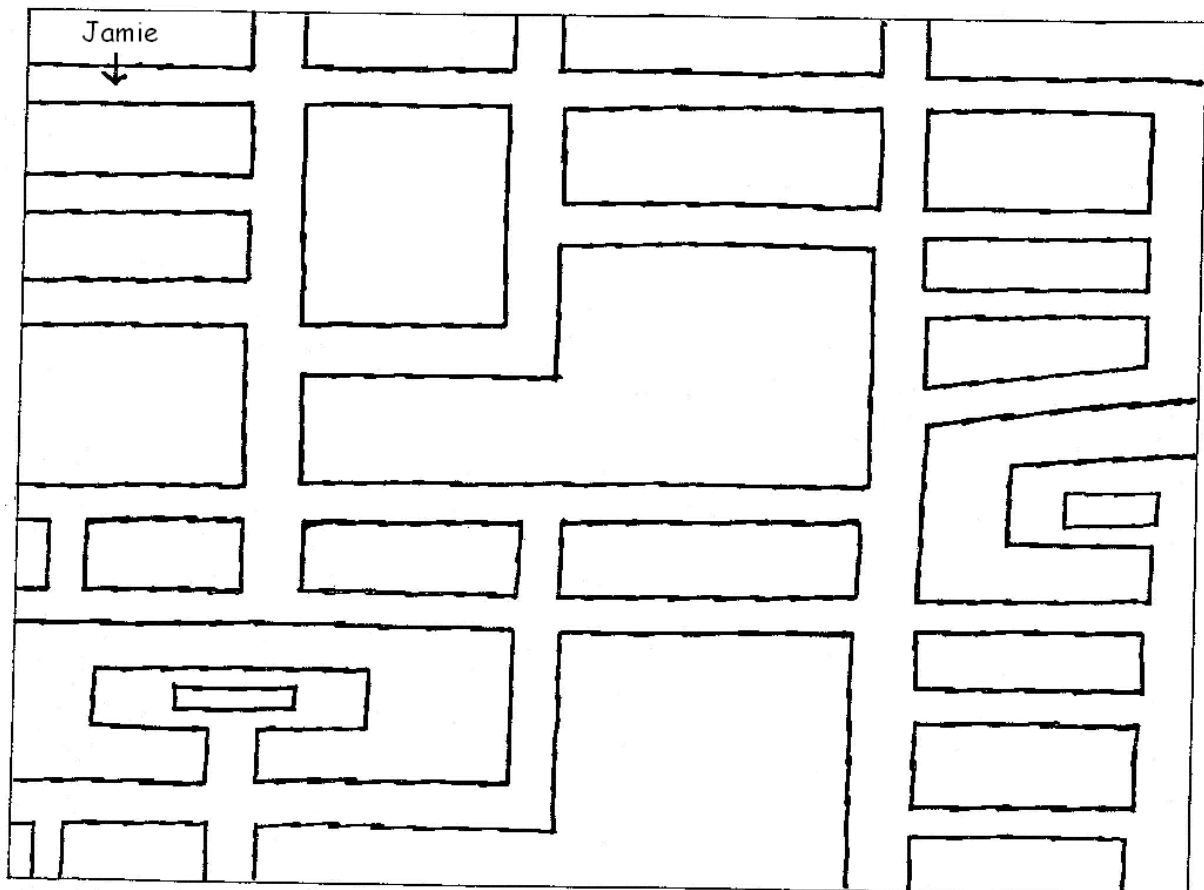
Rood: Als je de bladzijde erg moeilijk vond.

Veel plezier!

p.s. Vakje 1 en 2 kun je natuurlijk gelijk al inkleuren! Hier mag je zelf weten welke kleur je gebruikt!


## Speurtocht

Kun jij de wandeling van Jamie met een lijn aangeven? Dit zijn de aanwijzingen: Jamie gaat de voordeur uit en slaat de weg naar links in. Bij de tweede straat rechts gaat hij rechtsaf. Dan gaat hij de eerste straat links in. Hij loopt door, tot hij blijft staan bij de eerste straat links. Hij aarzelt even, maar gaat dan rechtsaf. Hij loopt door tot dat hij de eerste straat rechts neemt. Dan wandelt hij door, de tweede straat links in. Die is maar kort. Hij kan nu of naar links of naar rechts. Hij gaat linksaf en loopt dan de eerste straat rechts in. Dan weer de eerste straat rechts. En dan nog eens de eerste straat rechts, tot dat hij op het plein komt waar zijn oma woont.



Meten.

Meet alle lijnen met je liniaal. Let erop dat je bij de 0 begint! Vergeet ook niet:  
1 centimeter = 10 millimeter




Alle lijnen samen zijn ..... centimeter en ..... millimeter.

## Superdoolhof



Wat je hier ziet is de plattegrond van een stad. Je bent net verhuisd en ging even een ijsje kopen. Maar nu ben je verdwaald! Kun jij de weg weer terug vinden? Begin bij de pijl.



## Taal - voegwoorden

Een voegwoord is een woord dat twee zinnen aan elkaar verbindt.

Ik ging naar de bakker.  
Ik kocht daar een grote taart.

Ik ging naar de bakker **en** ik kocht daar een grote taart.

A simple line drawing of a person with spiky hair, wearing a short-sleeved shirt, holding a large, multi-layered cake with frosting and decorations. The person is standing in front of a window or display case.

Vul de volgende zinnen in. Kies uit deze voegwoorden:

en - maar - als - dus - omdat - sinds - toen - of - hoewel - omdat

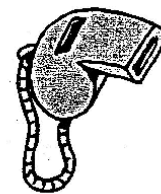


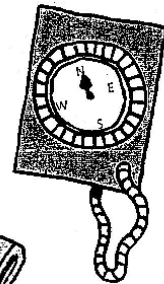



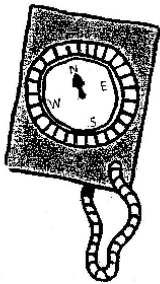
1. "Je zult kou vatten ..... je je niet goed aankleedt.", zei oma.
2. Het was veel te warm in de kamer .....deed hij zijn jas uit.
3. De telefoon doet het niet meer ..... gisteren.
4. Ik rende naar het station ..... ik de trein moest halen.
5. Ik nam toch een toetje, ..... ik al veel gegeten had.
6. Ik houd van fietsen ..... zwemmen.
7. Ze wilde televisie kijken, ..... niet samen met haar broertje.
8. Het glas brak ..... ik de deur dicht gooide.
9. De noemde de kat Lapje, ..... hij verschillende kleuren had.
10. Wil je thee, ..... heb je liever koffie?

Coördinaten geven de precieze positie aan op een rooster  
 De coördinaten van de X zijn (4,2). Dus 4 horizontaal en 2 verticaal.

Wat zijn de coördinaten van het volgende?

huis ( , )    molen ( , )    rendier ( , )

Teken het volgende in het rooster  
 hek (9,9)    berg (1,5)    beer (7,2)





## Rekenraadsels...

Tom heeft een stok nodig die twee keer zo lang is als de stok die hij nu heeft, maar hij heeft geen liniaal of centimeter of zoiets om mee te meten.

*Hoe kan hij te weten komen of een andere stok twee keer zo lang is?*

.....  
.....

Op Mark's vinger zit een rups. "Ik wou dat ik wist hoe lang deze rups is.", zegt hij. "Maar als ik een meetlat ga halen, dan valt de rups van mijn vinger."

*Is er een manier waarop Mark te weten kan komen hoe lang de rups is?*

.....  
.....

In een diepe kuil staat een beetje water. "Ik wou dat ik wist hoe diep dat water is.", zegt Melanie.

*Hoe kan zij meten hoe diep het water is zonder dat zij de kuil in gaat?*

.....  
.....

Op koude avonden stookt meneer Buis wel eens een houtblok op in zijn open haard. Zo'n houtblok brandt altijd twee uur lang. Op een avond gooit hij drie houtblokken tegelijk op het vuur, want hij wil het vuur drie keer zo lang laten branden.


*Klopt het dat het vuur drie keer langer blijft branden? Waarom wel of niet?*

.....  
.....

Mevrouw de Vries heeft twee pakjes. Het ene pakje is twee keer zo groot als het andere. Het kleine pakje weegt 1 kilo.

*Hoeveel weegt het grote pakje?*

.....



## Rekenraadsels...

Marriet koopt een doos rozijnen voor 99 cent. Joey koopt een kleinere doos voor 76 cent.

*Wie heeft de beste koop gedaan?*

.....  
.....




Het huisnummer van de familie de Vries is nummer 252. Het huisnummer van de familie Buis is 62.

*Welk huis is het grootst en waarom?*

.....  
.....

## Rekenen - digitale tijden

Schrijf de digitale tijden in de klokken. Let op: het is na 12 uur 's middags!






kwart voor 6

kwart over 8

10 voor 10

10 uur




10 over half 3

half 12

10 voor 8

6 voor 2





half 4

half 5

kwart voor 4

kwart voor 6




10 voor 2

4 uur

5 voor half 3

8 over half 9





5 voor 8

kwart voor 11

5 over half 10

11 uur



5 voor 12

kwart over 2

half 6

10 over half 10



