

Naam: _____ groep: _____

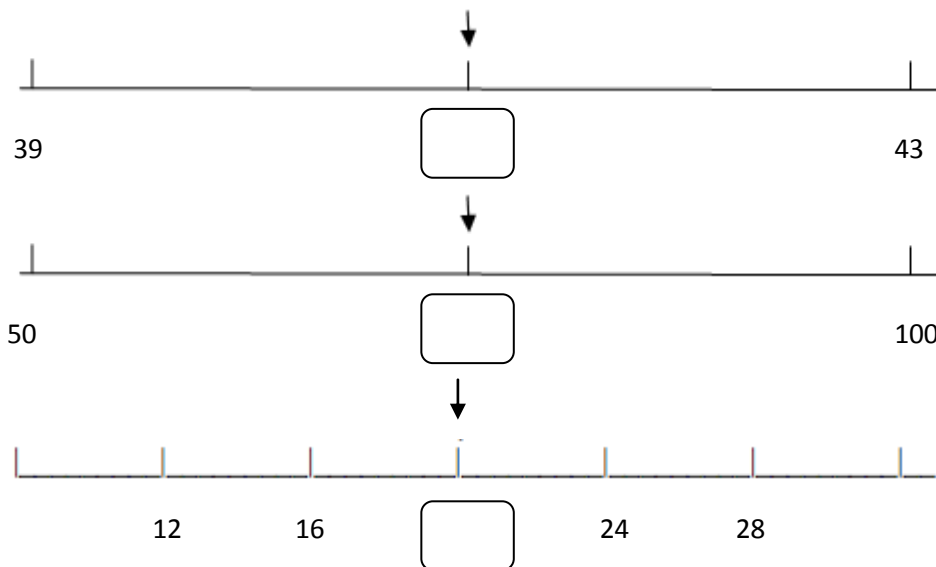
1. Het is kwart over 10. De pauze begint. Om half 11 is de pauze afgelopen. Hoe lang duurt de pauze?

2. Het is 12 uur. We gaan brood eten. Om kwart over 12 zijn we klaar met eten. Hoe lang duurt het eten?



3. In vak 4 zitten 2 sjoelstenen. In vak 2 zit 1 sjoelsteen. In vak 1 zit ook een sjoelsteen. In vak 3 zit niets. Hoeveel punten heb je samen?



4. Welk getal staat er bij de pijl?



5. Niels heeft € 50 . Hij koopt een legoauto voor € 23. Hoeveel geld houdt hij over?

6. Samen 20.  

7. Samen 30. 