

Naam: _____ groep: _____

1. Het is vrijdag. Over 5 dagen is het ?



2. Het is maandag. Over 4 dagen is het..... ?

3. Eerlijk verdelen: Rachel heeft 15 spekkies. Ze doet de spekkies in drie zakjes. Hoeveel zit er in elk zakje?

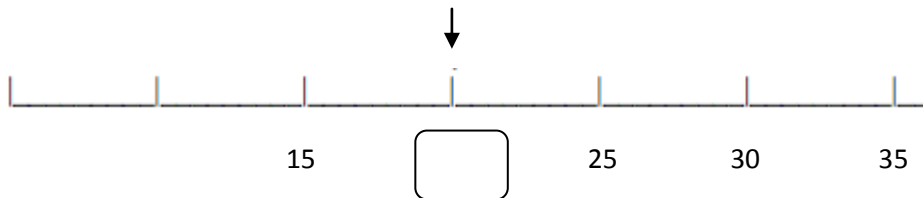
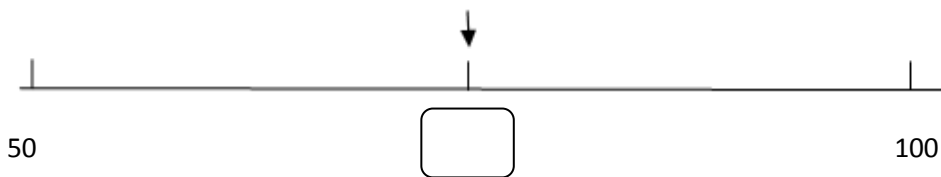
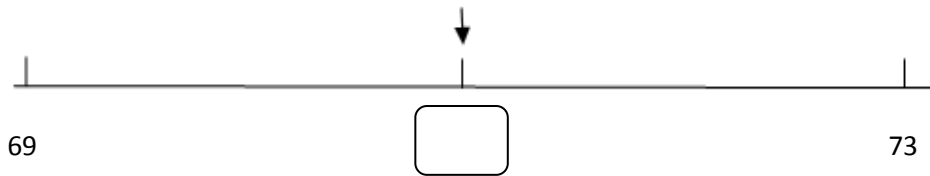
Chiel heeft 16 legoblokjes. Hij maakt vier torentjes. Hoe hoog wordt 1 toren?



Sander heeft 12 pennen. Hij doet de pennen in 4 etuis. Hoeveel pennen zitten er in 1 etui.

Niels heeft 20 schriften. Hij maakt 5 stapels. Hoeveel schriften zit er in 1 stapel?

4. Welk getal staat er bij de pijl?



5. Thomas heeft € 50 . Hij koopt een legoauto voor € 48. Hoeveel geld houdt hij over?

6. Samen 20.

9	8
---	---	-------

7a. Oma is 79 jaar. 30 jaar geleden was ze jaar.

7 b. De dochter van oma is 50 jaar. Hoeveel jaar is oma ouder?

7 c. De zoon van oma is 58 jaar. Hoeveel jaar is oma ouder?

