
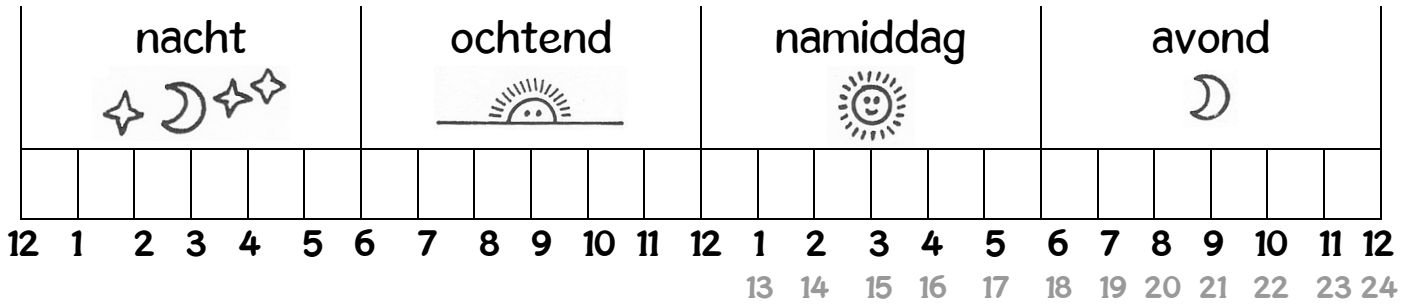


De klook



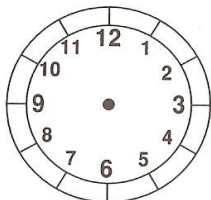
De klok



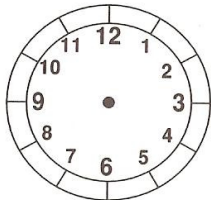
De **kleine wijzer** wijst naar de uren.

De **grote wijzer** wijst naar de minuten.

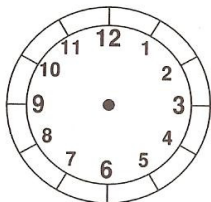
1 dag = 24 uur



1 uur = 60 minuten



half uur = 30 minuten



kwartier = 15 minuten

1 minuut = 60 seconden

Naam: _____

Datum: _____

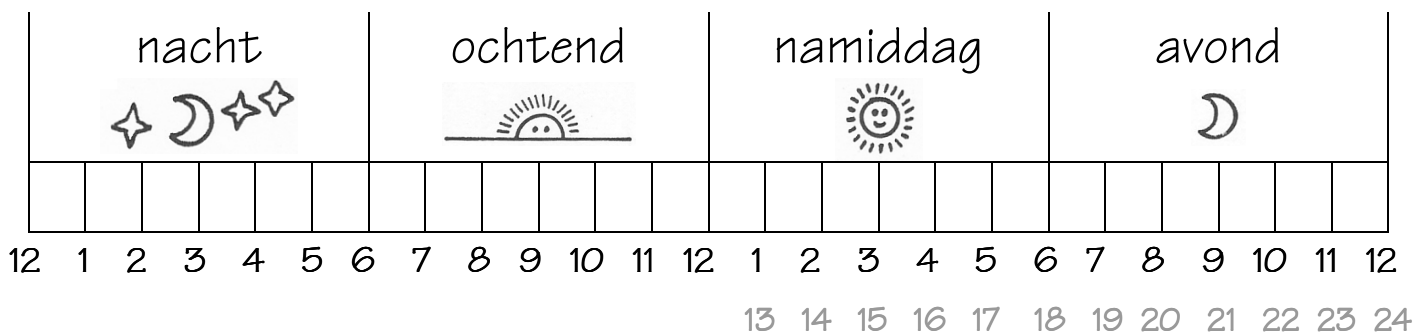
De klok

Huistaak mijn dag



Hoe ziet jouw dag eruit?

Mama of papa mogen helpen!



Ik slaap van _____ tot _____ uur.



Kleur dat deel blauw.

Ik ben op school van _____ tot _____ uur.



Kleur dat deel geel.

Ik maak mijn huiswerk van _____ tot _____ uur.




Kleur dat deel rood.





Ik speel/kijk tv van _____ tot _____ uur.






Kleur dat deel groen.

 Wat doe je dan?

 Gebruik het knipblad.

nacht 	ochtend 	namiddag 	avond 

Naam: _____

Datum: _____

De klok

De klok



Welke soort klok zie je?






Kleur.



En vul in.

In een dag gaan _____ uren.



De **grote wijzer** wijst naar de _____.

De **kleine wijzer** wijst naar de _____.

Een uur telt _____ minuten.

In een half uur gaan _____ minuten.

Een kwartier duurt _____ minuten.