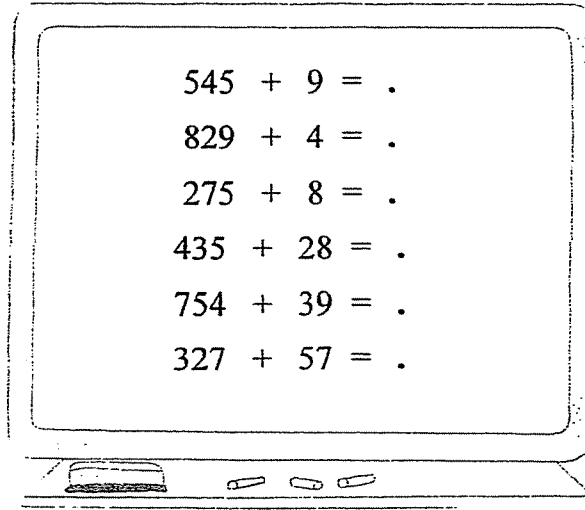


Hoofdrekenen

1) Los op:



2) Welke getallen schuilen er achter deze vuile inktvlekken?

489 + 105 = ...
 164 + 308 = ...
 587 + 409 = ...

148 + 325 = ...
 727 + 218 = ...
 442 + 439 = ...

243 - 5 = ...
 575 - 7 = ...
 662 - 9 = ...

3) Los op:

563 - 25 =

286 - 48 =

845 - 17 =

433 - 208 =

243 - 109 =

421 - 307 =

934 - 517 =

656 - 338 =

841 - 619 =

Hoofdrekenen:



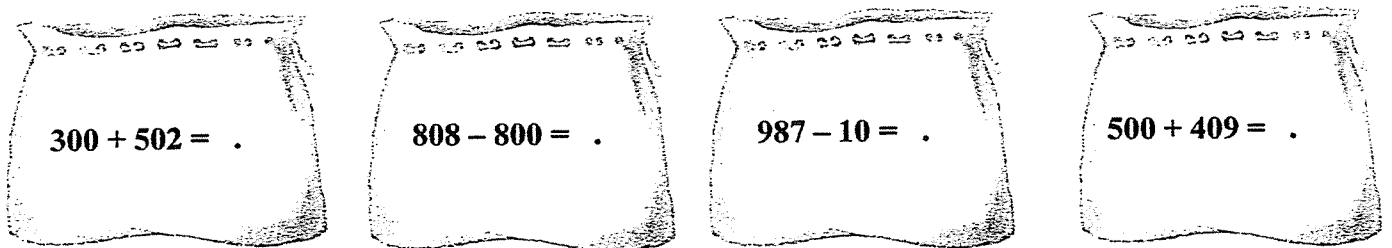
Zwarte Piet is verstrooid...Hij heeft de staf van de Sint verloren.
Hij kan de staf terugvinden, door deze oefeningen op te lossen.
Willen jullie Zwarte Piet helpen?

1) Reken uit

$308 + 30 = .$	$30 + 508 = .$	$60 + 836 = .$	$825 - 600 = .$	$408 - 300 = .$
$701 + 10 = .$	$429 + 50 = .$	$707 - 700 = .$	$908 - 300 = .$	$202 - 200 = .$
$605 + 300 = .$	$555 + 400 = .$	$523 - 100 = .$	$888 - 80 = .$	$846 - 800 = .$
$100 + 202 = .$	$300 + 123 = .$	$225 - 20 = .$	$301 - 100 = .$	$456 - 300 = .$

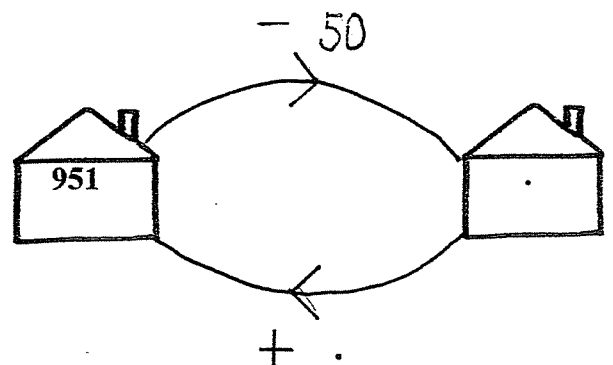
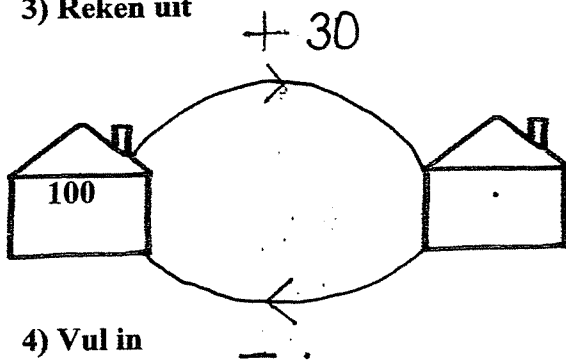
Zwarte Piet heeft vier zakken laten staan.
Wat zit er in?

2) Vul in



Zwarte Piet springt van dak tot dak.
Sint gaat van deur tot deur.

3) Reken uit



4) Vul in

3 keer 6 is .	4 maal 6 is .	$10 \times 6 = .$	$36 : 6 = .$
5 groepjes van 6 is .	54 gedeeld door 9 is .	$7 \times 6 = .$	$6 : 6 = .$