


Lente werkkboekje



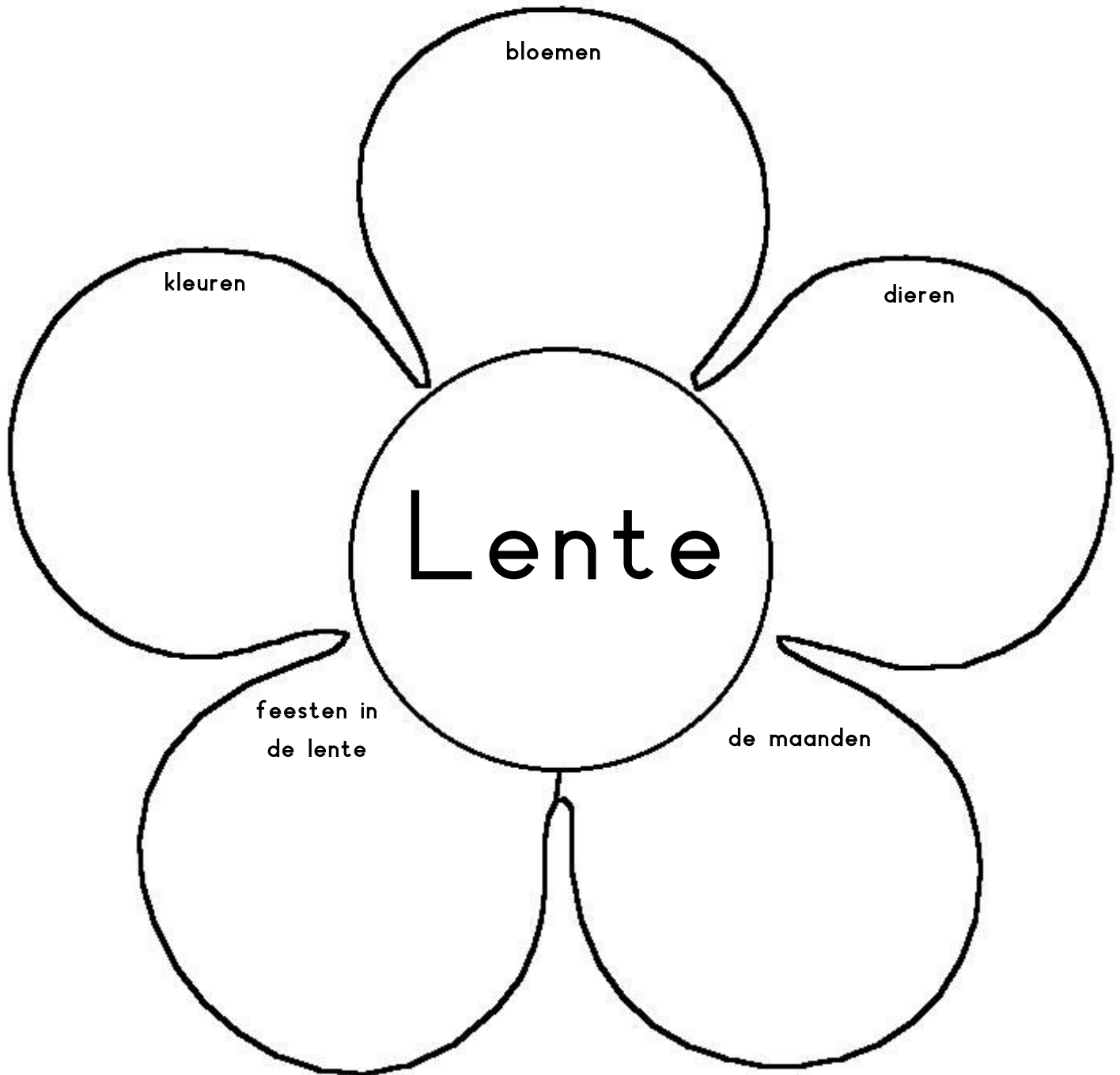
Groep 4

Naam:

Lente



Waar denk jij aan bij het woord lente? Schrijf deze woorden in de bloemblaadjes.



Lente



Maak de sommen

$13 + 17 =$

$33 + 61 =$

$16 + 15 =$

$29 + 41 =$

$40 + 54 =$

$80 + 11 =$

$35 + 35 =$

$5 + 6 =$

$18 + 19 =$

$10 + 40 =$


$34 - 23 =$

$33 - 24 =$

$66 - 35 =$

$87 - 34 =$

$84 - 37 =$



$95 - 46 =$

$96 - 45 =$

$77 - 66 =$

$76 - 67 =$

$62 - 40 =$

Hoe laat is het?

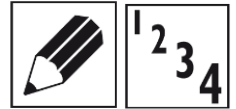


Zet de rijtjes in de goede volgorde. Begin bij het kleinste getal.

6	4	31	8
19	9	21	2
9	11	78	6



Lente



Zet de zinnen in de goede volgorde.

Zet een 1 bij de eerste zin, een 2 bij zin 2, etc.


	Anne graaft een gat in de grond.
	Anne koopt bloemen in een tuinwinkel.
	Anne plant de bloemen in de grond.
	Anne pakt een hark en schep uit de schuur.



	De grote, bruine kikker duikt een vijver in.
	Kim ziet een grote, bruine kikker op een steen zitten.
	Kim en Daan lopen naar de vijver in het park.
	Daan ziet meer dieren in de vijver zwemmen, maar ziet de kikker niet meer.



	Na een hele tijd broeden, komen er een heleboel kuikens uit het ei.
	In die grote schuur zitten 4 kippen te broeden op hun nest.
	Een boer heeft een hele grote schuur.
	De kippen moeten heel lang broeden op hun eieren.



Lente



Maak de sommen

$1 \times 5 =$

$2 \times 5 =$

$3 \times 5 =$

$4 \times 5 =$

$5 \times 5 =$

$1 \times 2 =$

$2 \times 2 =$

$3 \times 2 =$

$4 \times 2 =$

$5 \times 2 =$

$1 \times 10 =$

$2 \times 10 =$

$3 \times 10 =$

$4 \times 10 =$

$5 \times 10 =$


$1 \times 3 =$

$2 \times 3 =$

$3 \times 3 =$

$4 \times 3 =$

$5 \times 3 =$



$1 \times 1 =$

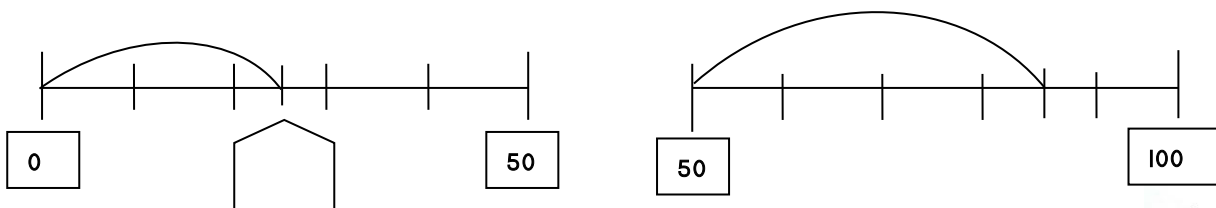
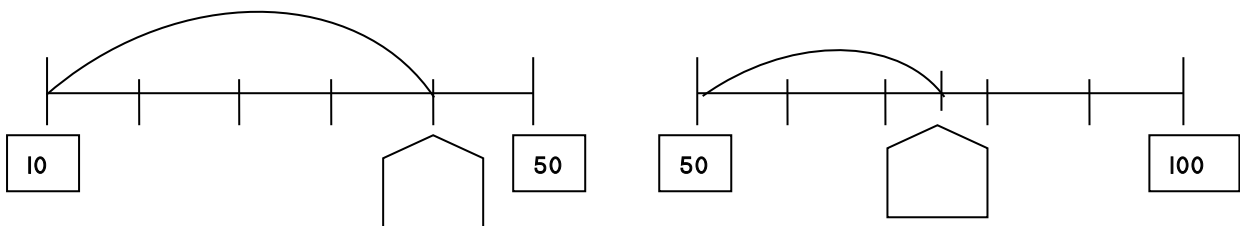
$2 \times 1 =$

$3 \times 1 =$

$4 \times 1 =$

$5 \times 1 =$

Welk getal komt er in het kaartje te hangen?



Lente



Hoe heten deze dieren?

Als je het niet weet, kun je het ook opzoeken.

man



vrouw



baby





























Lente

Schrijf deze woorden in het juiste vak.

Roos - veulen - Pinksteren - mei - geit - Koninginnedag -
Krokus - kuiken - Pasen - Narcis - april - kalf - maart -
Sneeuwkllokje - lammetje - Hyacint - Hemelvaart - juni

bloemen

dieren

feesten

maanden



Lente



Wat staat er onder de bloem?

Schrijf je antwoord achter de som.

$$50 + \text{bloem} = 100$$

$$85 + \text{bloem} = 100$$

$$54 + \text{bloem} = 60$$

$$70 + \text{bloem} = 100$$

$$75 + \text{bloem} = 100$$

$$32 + \text{bloem} = 40$$

$$30 + \text{bloem} = 100$$

$$45 + \text{bloem} = 100$$

$$73 + \text{bloem} = 80$$

$$60 + \text{bloem} = 100$$

$$55 + \text{bloem} = 100$$

$$91 + \text{bloem} = 100$$

$$44 + \text{bloem} = 50$$

$$12 + \text{bloem} = 20$$

$$65 + \text{bloem} = 70$$

$$22 + \text{bloem} = 30$$

$$30 + \text{bloem} = 30$$

$$34 + \text{bloem} = 40$$

$$87 + \text{bloem} = 90$$

$$52 + \text{bloem} = 60$$



Hoeveel geld krijg je terug?

$$€40 - €19 = €$$

$$€60 - €30 = €$$

$$€30 - €16 = €$$

$$€30 - €15 = €$$

$$€60 - €29 = €$$

$$€30 - €14 = €$$

$$€50 - €30 = €$$

$$€40 - €31 = €$$

$$€40 - €21 = €$$

$$€50 - €25 = €$$

$$€40 - €29 = €$$

$$€60 - €19 = €$$

$$€40 - €20 = €$$

$$€50 - €19 = €$$

$$€50 - €16 = €$$

Lente

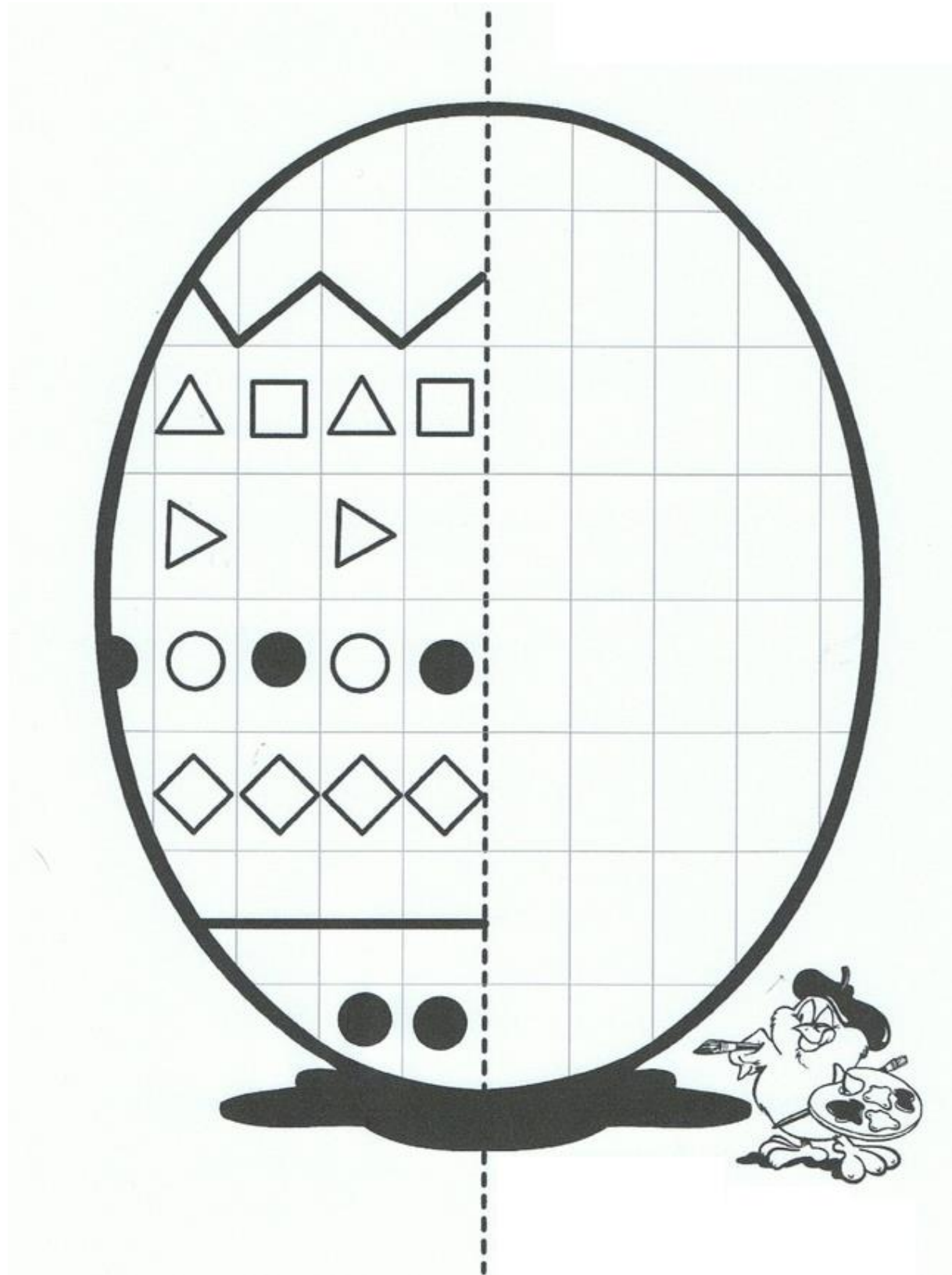


Lente



Maak dit ei zo mooi mogelijk af!

Tip: kijk je wel goed naar het voorbeeld!



Lente



Versier je eigen paasei!

