

REDACTIESOMMEN 21

Omcirkel het goede antwoord

- Peter koopt een tv-kabel van 3 m en 25 cm. De kabel is 75 cm te lang.
Hoeveel kabel had Peter eigenlijk nodig?
A. 2 m
B. 2 m en 50 cm
C. 1 m en 50 cm
D. 3 m en 50 cm
- Een schrift kost 15 eurocent. Ik koop 20 schriften.
Hoeveel moet ik betalen?
A. € 4,-
B. € 2,15
C. € 3,-
D. € 35,-
- Op mijn verjaardagsfeestje worden 81 knikkers uitgedeeld.
Er zijn 9 kinderen.
Hoeveel knikkers krijgt elk kind?
A. 9
B. 7
C. 8
D. 6
- Anika en Charlotte doen mee aan een fietstocht. Ze starten om 18.15 uur. Ze fietsen 2 uur.
Hoe laat zijn zij weer terug?
A. 20.15 uur
B. 21.15 uur
C. 20.00 uur
D. 19.15 uur
- Vader koopt voor de gang 223 tegels. Later koopt hij er nog 35 bij.
Hoeveel tegels koopt hij totaal?
A. 158
B. 258
C. 358
D. 188
- Simi koopt gereedschap bij 'De Klusser'. Ze koopt een zaag voor € 15,25, een grote doos spijkers en schroeven voor € 4,95 en een hamer voor € 12,95.
Hoeveel moet zij betalen?
A. € 32,15
B. € 17,90
C. € 15,25
D. € 33,15
- Hoe schrijf je het getal in cijfers?
eenhonderd drieënnegentig
A. 391
B. 193
C. 913
D. 139
- Welke lijn is 3 cm korter dan de stippellijn?
I
II _____
III _____
IV _____
A. I
B. II
C. III
D. IV
- Hoeveel is de helft van 80 meer dan 3 keer 12?
A. 2
B. 4
C. 3
D. 5
- Twaalf kinderen verdelen 144 plaatjes.
Hoeveel plaatjes krijgt elk kind?
A. 13
B. 10
C. 11
D. 12

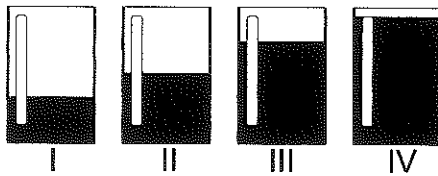
Aantal sommen goed ...



REDACTIESOMMEN 22

Omcirkel het goede antwoord

- Op een school zitten 375 leerlingen. Na de vakantie komen er plotseling 65 bij.
Hoeveel leerlingen zitten er nu op school?
A. 404
B. 440
C. 310
D. 414
- De directeur van een school koopt 420 vulpennen. Na een jaar zijn er 26 kapot.
Hoeveel vulpennen schrijven nog goed?
A. 400
B. 446
C. 394
D. 493
- Hoe schrijf je het getal in cijfers?
driehonderd vijfendertig
A. 353
B. 335
C. 533
D. 333
- Een auto rijdt in één uur 80 km.
Hoeveel km rijdt de auto in 3 uur?
A. 160 km
B. 420 km
C. 240 km
D. 320 km
- Er zitten 12 spritskoeken in één pak. Moeder heeft 144 spritsen.
Hoeveel pakken zijn dat?
A. 132
B. 12
C. 14
D. 231
- Sjors moet 250 gram gehakt halen bij de slager.
Vijfhonderd gram gehakt kost € 4,30.
Hoeveel moet Sjors betalen?
A. € 2,15
B. € 4,30
C. € 2,50
D. € 3,50
- Als 31 mei op een woensdag valt, op welke dag valt dan 11 mei?
A. dinsdag
B. woensdag
C. donderdag
D. vrijdag
- Hoe laat is het?
20.30 uur is hetzelfde als ...
Dat is hetzelfde als ...
A. 's morgens half 9
B. 's avonds half 9
C. 's middags half 3
D. 's nachts half 3
- Saskia gooit met 2 dobbelstenen in 4 beurten 4 x 6 punten.
Jeroen gooit in 3 beurten evenveel.
Hoeveel gooit Jeroen per keer?
A. 24
B. 18
C. 8
D. 20
- Welk glas is voor een derde deel gevuld?
A. I
B. II
C. III
D. IV



Aantal sommen goed ...

REDACTIESOMMEN 23

Omcirkel het goede antwoord

1. Tijdens de vakantie rijden we in 4 dagen 280 km.
Hoeveel km rijden we gemiddeld per dag?
A. 140 km
B. 70 km
C. 210 km
D. 140 km
2. Kasper heeft een krantenwijk. 's Morgens brengt hij 147 kranten rond en 's avonds nog 128 kranten.
Hoeveel kranten bezorgt Kasper per dag?
A. 750
B. 175
C. 275
D. 375
3. Een bouwbedrijf bestelt 1.785 stenen. Bij aflevering zijn 85 stenen gebroken.
Hoeveel hele stenen krijgt het bouwbedrijf?
A. 1.700
B. 1.870
C. 1.770
D. 1.600
4. Hoeveel is 8 keer 3 euro meer dan een biljet van 20 euro?
A. € 23,-
B. € 11,-
C. € 4,-
D. € 44,-
5. Hoe schrijf je het getal in cijfers?
achthonderd tweeënzeventig
A. 728
B. 782
C. 278
D. 872
6. In groep 5 en 6 zitten 60 kinderen. Ze krijgen elk 4 mandarijnen.
Hoeveel mandarijnen zijn er nodig?
A. 56
B. 64
C. 240
D. 244
7. Hoeveel maanden zitten er in 3 jaar?
A. 36
B. 24
C. 12
D. 48
8. Tante An mist de trein van 15.00 uur. Zij moet een kwartier wachten op de volgende trein.
Hoe laat is het dan?
A. 15.00 uur
B. 15.15 uur
C. 15.30 uur
D. 14.45 uur
9. Het plantsoen achter ons huis is 22 m lang en 16 m breed.
Hoe lang is het hek rondom het plantsoen?
A. 38 m
B. 32 m
C. 76 m
D. 67 m
10. Adwin poot 5 rijen van elk 9 plantjes in de schooltuin.
Hoeveel plantjes zijn dat?
A. 4
B. 14
C. 45
D. 55

Aantal sommen goed . . .



REDACTIESOMMEN 24

Omcirkel het goede antwoord

1. Vader kocht voor Wibbo een brommer van € 575,-.
Hij kreeg € 80,- korting.
Hoeveel moest vader betalen?
A. € 655,-
B. € 595,-
C. € 495,-
D. € 395,-
2. Een straaljager vliegt 1400 km per uur.
Hoeveel km vliegt deze straaljager in 5 uur?
A. 905 km
B. 1.405 km
C. 6.000 km
D. 7.000 km
3. In een nieuwe wijk staan 244 huizen. Er worden 68 huizen bij gebouwd.
Hoeveel huizen staan er dan?
A. 178
B. 188
C. 312
D. 302
4. Hoe schrijf je het getal in cijfers?
duizend zes
A. 6.001
B. 1.006
C. 106
D. 601
5. Mijn zus verdient in 6 weken € 2.400,-.
Hoeveel verdient zij per week?
A. € 24,-
B. € 240,-
C. € 400,-
D. € 600,-
6. Een pak van 6 koeken kost € 1,80.
Hoeveel kost 1 koek?
A. € 0,10
B. € 0,30
C. € 0,36
D. € 0,25
7. Hoeveel zijn 6 biljetten van 20 euro meer dan 6 biljetten van 10 euro?
A. € 120,-
B. € 30,-
C. € 60,-
D. € 180,-
8. Om 18.45 uur begint het Jeugdjournaal. Dat duurt een kwartier.
Hoe laat is het jeugdjournaal afgelopen?
A. 19.03 uur
B. 19.15 uur
C. 19.30 uur
D. 19.00 uur
9. Een weiland is 100 m lang en 60 m breed.
Wat is de omtrek?
A. 160 m
B. 220 m
C. 260 m
D. 320 m
10. Een groenteman koopt een kist met 80 sinaasappels.
Eén vierde deel is rot.
Hoeveel sinaasappels zijn er goed?
A. 100
B. 82
C. 60
D. 6



Aantal sommen goed . . .

REDACTIESOMMEN 25

Omcirkel het goede antwoord

- In een straat staan 434 huizen. Hiervan worden er 50 afgebroken.
Hoeveel huizen blijven er staan?
A. 834
B. 394
C. 384
D. 484
- In de vakantie fietsen wij gemiddeld 50 km per dag.
Hoeveel km fietsen we in 8 dagen?
A. 58 km
B. 320 km
C. 68 km
D. 400 km
- Een boer verkoopt in 5 dagen 255 eieren.
Hoeveel eieren verkoopt hij gemiddeld op één dag?
A. 250
B. 51
C. 260
D. 61
- In het ene dorp wonen 666 mensen. Het andere dorp telt 720 inwoners.
Hoeveel mensen wonen er totaal in de twee dorpen?
A. 1.286
B. 1.086
C. 1.386
D. 54
- Ellen spaart munten. Ze heeft 16 munten van 1 euro en 32 munten van 2 euro.
Hoeveel geld heeft zij?
A. € 64,-
B. € 80,-
C. € 3,-
D. € 76,-
- Hoe schrijf je het getal in cijfers?
duizend zevenenveertig
A. 1.147
B. 1.004
C. 7.001
D. 1.047
- We eten altijd om 12.00 uur. Daar doen we 25 minuten over.
Hoe laat zijn we klaar met eten?
A. 5 voor half 1
B. 5 over half 1
C. 5 voor half 2
D. 5 over half 2
- Negentien september valt op een dinsdag.
Op welke dag valt 30 september?
A. vrijdag
B. zaterdag
C. zondag
D. maandag
- Wat is de 5 waard in het getal 567?
A. 5
B. 50
C. 500
D. 700
- Welk deel van deze balk is gestreept?
A. $\frac{1}{10}$ deel
B. $\frac{1}{9}$ deel
C. $\frac{1}{8}$ deel
D. $\frac{1}{7}$ deel



Aantal sommen goed . . .



REDACTIESOMMEN 26

Omcirkel het goede antwoord

1. In groep 5 zitten 28 kinderen. Iedereen krijgt per jaar 5 pennen. Hoeveel pennen zijn er voor de hele groep per jaar nodig?
 - A. 140
 - B. 410
 - C. 100
 - D. 40

2. Farida heeft 72 sommen gemaakt. Ze heeft er 18 fout. Hoeveel sommen heeft ze goed gemaakt?
 - A. 90
 - B. 45
 - C. 54
 - D. 50

3. De juf heeft 240 knikkers te verdelen. Ze heeft 20 kinderen in haar groep. Hoeveel knikkers krijgt elk kind?
 - A. 120
 - B. 12
 - C. 220
 - D. 20

4. Hoeveel is 6 keer 4 euro minder dan 5 biljetten van 20 euro?
 - A. € 74,-
 - B. € 124,-
 - C. € 76,-
 - D. € 24,-

5. Op een rol zit 700 m touw. Op een andere rol 622 m. Hoeveel m zit er op beide rollen?
 - A. 78 m
 - B. 3.122 m
 - C. 1.322 m
 - D. 88 m


6. Hafida en Natasja gaan naar de supermarkt. Hafida haalt peren en citroenen voor € 4,-. Natasja koopt een stokbrood en een rol drop voor € 1,98. Hoeveel moeten zij samen betalen?
 - A. € 4,-
 - B. € 4,02
 - C. € 4,98
 - D. € 5,98

7. Hoe schrijf je het getal in cijfers? vijfhonderd achtendertig
 - A. 583
 - B. 538
 - C. 338
 - D. 853

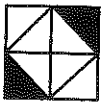
8. Ruwan en Fred waren van half vijf tot kwart over vijf in de speeltuin. Hoe lang hebben zij daar gespeeld?
 - A. 1 kwartier
 - B. 2 kwartier
 - C. 4 kwartier
 - D. 3 kwartier

9. In een tuin liggen 220 tegels. Er liggen 11 tegels op één rij. Hoeveel rijen zijn er?
 - A. 231
 - B. 110
 - C. 20
 - D. 11


10. Van welk vierkant is niet de helft zwart?




I



II



III



IV

 - A. I
 - B. II
 - C. III
 - D. IV




Aantal sommen goed ...

REDACTIESOMMEN 27

Omcirkel het goede antwoord

- Hoe schrijf je het getal in cijfers?
negentienhonderd zesenvijftig
A. 1.596
B. 1.569
C. 1.965
D. 1.956
- Alle kinderen van groep 5 hebben vandaag 25 sommen gemaakt. Er zitten 30 kinderen in de groep.
Hoeveel sommen moest de juf die dag nakijken?
A. 55
B. 60
C. 75
D. 750
- Benno brengt elke zaterdag 'De Kijk in' rond. Het zijn er 375. Op een zaterdag zijn er 45 nat geregend.
Hoeveel goede tijdschriften zijn er nog?
A. 420
B. 430
C. 330
D. 230
- Een helikopter vliegt op een dag 500 km. In één uur vliegt de helikopter 100 km.
Hoe lang doet hij over 500 km?
A. 5 uur
B. 50 uur
C. 500 uur
D. 5.000 uur
- Hoeveel kwartieren zitten er in 3 uur?
A. 10
B. 12
C. 16
D. 20'
- Esther krijgt een nieuwe fiets van haar moeder. De fiets kost € 375,-. De verzekering van de fiets kost € 35,-.
Hoeveel moet de moeder van Esther in totaal betalen?
A. € 340,-
B. € 410,-
C. € 375,-
D. € 35,-
- Hoeveel dagen zitten er in de maanden maart, april en mei?
A. 92
B. 91
C. 93
D. 90
- Corjan heeft € 30,-. Hij koopt een tas en kleurpotloden.
Hoeveel krijgt hij terug?
A. € 52,45
B. € 12,50
C. € 7,55
D. € 6,55
- Een vierkante tegel is 30 cm lang.
Hoeveel cm is de omtrek?
A. 60 cm
B. 90 cm
C. 120 cm
D. 150 cm
- Vader plukt 49 peren. Hij geeft een zevende deel aan de buurman. Hoeveel peren krijgt de buurman?
A. 9
B. 8
C. 7
D. 6



Aantal sommen goed . . .



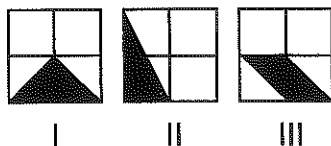
REDACTIESOMMEN 28

Omcirkel het goede antwoord

- Bij 'Vers markt' worden per dag 40 kroppen sla verkocht. Hoeveel kroppen verkopen ze daar in 6 dagen?
 - 24
 - 46
 - 240
 - 340
- Bij kaasboerderij 'Het Blokje' is 55 kg kaas in voorraad. Men verkoopt gemiddeld 5 kg kaas per dag. In hoeveel dagen is men door de voorraad heen?
 - 60
 - 50
 - 11
 - 10
- Noor zit met 29 kinderen in groep 5. Er gaan 7 kinderen verhuizen. Hoeveel kinderen zitten er dan in deze groep?
 - 36
 - 23
 - 22
 - 21
- Mijn wekker loopt om 8.00 uur af. Een kwartier later sta ik op. Hoe laat is het dan?
 - 7.45 uur
 - 8.15 uur
 - 8.30 uur
 - 8.45 uur
- Hoe schrijf je het getal in cijfers? negenhonderd eenentachtig
 - 981
 - 189
 - 819
 - 901
- Hoeveel maanden zitten er in 5 jaar?
 - 12
 - 36
 - 48
 - 60
- Een metselaar metselt op maandag 1.400 stenen en op dinsdag 800 stenen. Hoeveel stenen metselt hij in die twee dagen?
 - 1.600
 - 2.200
 - 2.800
 - 2.400
- In de supermarkt koop ik de dingen die je hier ziet. Ik neem € 100,- mee. Hoeveel geld krijg ik terug?
 - € 18,20
 - € 70,35
 - € 19,65
 - € 80,35




- Een vierkante tuin is 20 m lang. Hoeveel m is de omtrek?
 - 40 m
 - 60 m
 - 80 m
 - 100 m
- In welke figuur is het zwarte deel het grootst?
 - I
 - II
 - III
 - alle drie even groot



Aantal sommen goed . . .

REDACTIESOMMEN 29

Omcirkel het goede antwoord

- Janet verliest de helft van haar knikkers. Ze had er 250.
Hoeveel knikkers heeft ze over?
A. 250
B. 375
C. 125
D. 500
- Een goudsmid verkoopt per week 3 gouden vulpennen.
Hoeveel weken heeft hij nodig om er 63 te verkopen?
A. 63
B. 21
C. 60
D. 22
- De kleine wijzer staat op de vijf. De grote wijzer wijst 12 aan.
Hoe laat is het?
A. 5 voor half 12
B. 5 over half 12
C. 6 uur
D. 5 uur
- Hoe schrijf je het getal in cijfers?
dertienhonderd vierennegentig
A. 3.194
B. 1.394
C. 9.413
D. 4.931
- Een vleeskroket kost € 1,10.
Hoeveel kosten 9 vleeskroketten?
A. € 0,99
B. € 99,-
C. € 9,90
D. € 9,10
- Hoeveel maanden zitten er in een half jaar?
A. 72
B. 60
C. 6
D. 18
- Caroline krijgt nieuwe kleren. Ze krijgt van haar moeder € 100,- mee.
Hoeveel geld krijgt zij terug?

A. € 3,55
B. € 5,35
C. € 96,45
D. € 9,64
- De directeur van een school heeft 550 pennen gekocht.
Later koopt hij er nog 65 bij.
Hoeveel pennen heeft hij totaal ingekocht?
A. 485
B. 615
C. 515
D. 516
- Onze tuin is vierkant. De omtrek is 80 m.
Hoe lang is één zijde?
A. 200 m
B. 40 m
C. 20 m
D. 320 m
- In de manege lopen 16 paarden. Het vierde deel wordt bereden. Hoeveel paarden hebben geen ruiter?
A. 4
B. 12
C. 8
D. 14

Aantal sommen goed . . .



REDACTIESOMMEN 30

Omcirkel het goede antwoord

1. Een boer gaat elke woensdag naar de markt. Hij vertrekt om 6.00 uur. Om 7.45 uur komt hij op de markt aan. Hoe lang is hij onderweg?
 - A. 1 u en 45 m
 - B. 2 u en 45 m
 - C. 1 u en 15 m
 - D. 2 u en 15 m

2. Vader rooit 474 tulpenbollen uit de achtertuin en uit de voortuin 125. Hoeveel tulpenbollen rooit hij?
 - A. 249
 - B. 349
 - C. 599
 - D. 699


3. Anita zegt: '4 keer 14 is 46.' 'Nee,' zegt Janny, 'dat is 42.' 'Niet waar,' zegt Jelle, 'Het is 56.' 'Nee hoor,' beweert Bram, 'volgens mij is het 54.' Wie heeft gelijk?
 - A. Anita
 - B. Janny
 - C. Jelle
 - D. Bram

4. In een garage staan 303 auto's. Er worden 33 auto's verkocht. Hoeveel auto's staan nog in de garage?
 - A. 333
 - B. 336
 - C. 270
 - D. 263

5. Bij bakker Taart kost een gebakje € 1,10. Ik betaal € 22,-. Hoeveel gebakjes heb ik gekocht?
 - A. 10
 - B. 15
 - C. 25
 - D. 20

6. Van een plank van 125 cm zaagt Vincent $\frac{1}{5}$ deel af. Hoeveel cm blijft er over?
 - A. 75 cm
 - B. 100 cm
 - C. 130 cm
 - D. 150 cm

7. Joke krijgt nieuwe kleren. Hoeveel moet zij betalen?



 - A. € 692,70
 - B. € 369,70
 - C. € 269,70
 - D. € 169,70

8. De lengte van een grasveld is 60 m. De lengte en de breedte zijn gelijk. Wat is de omtrek?
 - A. 60 m
 - B. 120 m
 - C. 180 m
 - D. 240 m

9. Ik denk aan een getal. Drie keer dat getal is 48. Aan welk getal denk ik?
 - A. 6
 - B. 16
 - C. 45
 - D. 51

10. Welk getal hoort bij het vraagteken?

325 - 330 - 335 - ... - ... - ?

 - A. 350
 - B. 345
 - C. 340
 - D. 320

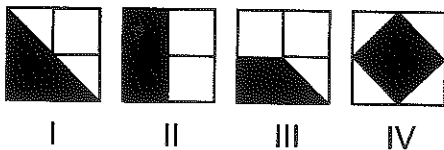


Aantal sommen goed . . .

REDACTIESOMMEN 31

Omcirkel het goede antwoord

- In het zwembad 'De Hoge Bomen' zwemmen 42 kinderen. Er gaan 9 kinderen naar huis. Later komen er weer 15 bij. Hoeveel kinderen zijn er nu in het zwembad?
A. 46
B. 45
C. 48
D. 47
- Op 3 maart is moeder van 9.00 tot 10.15 uur bij oma op visite. Op 10 maart gaat ze van 8.45 tot 9.45 uur. Op 17 maart van 10.00 tot 10.45 uur en op 24 maart van 9.15 tot 10.45 uur. Op welke dag was moeder het langst op visite?
A. 3 maart
B. 10 maart
C. 17 maart
D. 24 maart
- Vijfhonderd gram tomaten kosten € 1,50. Hoeveel kilogram tomaten krijg ik voor € 15,-?
A. 10
B. 5
C. 6
D. 13
- In een vliegtuig zitten 326 passagiers. Bij een tussenlanding stappen er 28 uit. Hoeveel passagiers blijven er over?
A. 299
B. 354
C. 297
D. 298
- In 1 pakje ontbijtspek zitten 18 plakjes. Hoeveel plakjes zitten er in 6 pakjes?
A. 107
B. 108
C. 109
D. 110
- Op één euro na heeft Henry € 17,50. Hoeveel geld heeft Henry?
A. € 15,50
B. € 17,50
C. € 16,50
D. € 18,50
- Kim heeft 520 stickers gespaard. Ze geeft $\frac{1}{4}$ deel van Loubna. Hoeveel stickers krijgt Loubna?
A. 260
B. 390
C. 130
D. 520
- De omtrek van een lokaal is 28 m. De lengte en de breedte zijn gelijk. Wat is de lengte?
A. 14 m
B. 7 m
C. 21 m
D. 28 m
- Wim is 9 jaar. Martin is 2 jaar jonger. Vader is 30 jaar ouder dan Martin. Hoe oud is vader?
A. 39 jaar
B. 32 jaar
C. 37 jaar
D. 36 jaar
- Van welke figuur is het zwarte deel het kleinst?
A. I
B. II
C. III
D. IV



Aantal sommen goed . . .



REDACTIESOMMEN 32

Omcirkel het goede antwoord

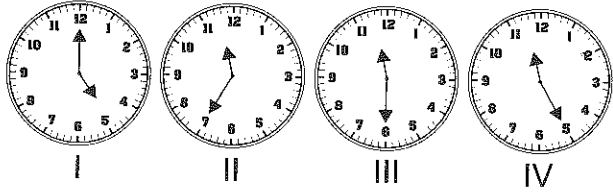
1. Een snorfiets rijdt in 3 uur 45 km.
Hoeveel km is dat per uur?
A. 45 km
B. 30 km
C. 15 km
D. 10 km
2. Het zeilschip 'De Eendracht' heeft 75 passagiers aan boord.
De bemanning telt 26 koppen.
Hoeveel mensen zijn er totaal aan boord?
A. 100
B. 101
C. 102
D. 103
3. Hoe laat is het?
18.30 uur is hetzelfde als ...
A. half 7 's avonds
B. half 7 's morgens
C. half 6 's avonds
D. half 6 's morgens
4. Een boer verkoopt de helft van zijn koeien. Hij heeft er nu 28.
Hoeveel koeien had hij eerst?
A. 28
B. 14
C. 56
D. 42
5. 'Nog 4 munten van 2 euro,' zegt Nick, 'en ik heb 25 euro.'
Hoeveel geld heeft Nick nu?
A. € 8,-
B. € 18,-
C. € 17,-
D. € 33,-
6. Onze basisschool heeft 8 groepen. Er zijn 4 groepen van 25 kinderen en 4 groepen van 27 kinderen.
Hoeveel leerlingen zitten er op onze school?
A. 234
B. 100
C. 108
D. 208
7. Mitchel geeft $\frac{1}{6}$ deel van zijn geld aan arme kinderen.
Hij heeft € 120,- gespaard.
Hoeveel geeft hij weg?
A. € 12,-
B. € 20,-
C. € 24,-
D. € 126,-
8. Welk getal hoort bij het vraagteken?
129 - 136 - 143 - ... - ... - ?
A. 143
B. 150
C. 155
D. 164
9. De garage van onze buurman is 4 m breed. De lengte is 6 m.
Wat is de omtrek?
A. 8 m
B. 12 m
C. 20 m
D. 24 m
10. In 4 zakken zitten elk 7 nectarines. De groenteman stopt deze nectarines nu in 2 zakken.
Hoeveel nectarines zitten er dan in elke zak?
A. 7
B. 14
C. 21
D. 28



Aantal sommen goed ...

REDACTIESOMMEN 33

Omcirkel het goede antwoord

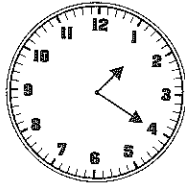
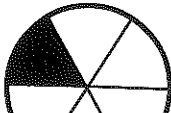
- Delano heeft 36 knikkers. Eerst wint hij er 18, later verliest hij er weer 13.
Hoeveel knikkers heeft hij over?
A. 41
B. 5
C. 18
D. 13
- Boer Biet verkoopt 12 kisten rode bietjes. In één kist zitten 25 bietjes. Hoeveel rode bietjes zijn er totaal?
A. 13
B. 37
C. 200
D. 300
- Een trein rijdt in 5 uur 450 km.
Hoeveel km rijdt de trein per uur?
A. 90 km
B. 360 km
C. 455 km
D. 540 km
- Op welke klok is het 5 voor half 12?

A. I
B. II
C. III
D. IV
- De onderzeeboot 'Dolfijn' telt 72 bemanningsleden. Later komen er nog 36 bij.
Hoeveel mensen heeft de 'Dolfijn' dan aan boord?
A. 36
B. 108
C. 118
D. 218
- Arjan heeft 350 postzegels gespaard. Hij geeft $\frac{1}{5}$ deel aan Hassan. Hoeveel postzegels heeft hij zelf nog over?
A. 70
B. 420
C. 280
D. 380
- Sjoukje koopt voor haar vriendin een cadeautje van € 7,90. Ze betaalt met een biljet van 10 euro.
Hoeveel geld houdt zij over?
A. € 1,10
B. € 2,10
C. € 3,10
D. € 17,90
- Ik denk aan een getal. Zeven keer dat getal is 63.
Aan welk getal denk ik?
A. 7
B. 9
C. 56
D. 70
- Rian is 10 jaar. Frederik is 3 jaar ouder. Moeder is 20 jaar ouder dan Frederik.
Hoe oud is moeder?
A. 13 jaar
B. 23 jaar
C. 30 jaar
D. 33 jaar
- Een schoolplein is 300 dm lang en 200 dm breed.
Hoeveel m is de omtrek?
A. 100 m
B. 500 m
C. 750 m
D. 1.000 m

Aantal sommen goed . . .



REDACTIESOMMEN 34

Omcirkel het goede antwoord





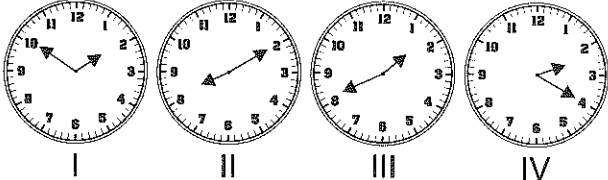
1. In oktober voeren 326 schepen de Nieuwe Waterweg binnen. In november waren dat er 420. Hoeveel schepen waren dat totaal?
 A. 766
 B. 764
 C. 746
 D. 706
2. Boekhandel Het Goede Boek verkoopt gemiddeld per maand 175 boeken. Hoeveel boeken zijn dat in 6 maanden?
 A. 1.350
 B. 1.050
 C. 1.550
 D. 1.650
3. Een supermarkt verkoopt op maandag 412 pakken melk. Op dinsdag verkoopt men er 372. Wat is het verschil?
 A. 412
 B. 40
 C. 748
 D. 784
4. Arno heeft 330 blikjes gespaard. Hij geeft $\frac{1}{3}$ deel aan Kas. Hoeveel blikjes krijgt Kas?
 A. 100
 B. 110
 C. 220
 D. 230
5. Mijn zus verdient met haar krantenwijk € 600,- in 4 maanden. Hoeveel verdient zij per maand?
 A. € 150,-
 B. € 100,-
 C. € 300,-
 D. € 450,-
6. Hoe laat is het op deze klok?

 A. 10 voor half 1
 B. 10 voor half 2
 C. 10 over half 1
 D. 10 over 4
7. John koopt bij de slager 200 gram ham voor € 1,96, een stuk leverworst voor € 0,95 en 200 gram biefstuk voor € 2,50. Hoeveel moet hij betalen?
 A. € 7,91
 B. € 4,51
 C. € 5,41
 D. € 5,40
8. Mireille is 7 jaar. Vader is 5 keer zo oud. Moeder is 32 jaar. Hoe oud zijn vader en moeder samen?
 A. 35 jaar
 B. 67 jaar
 C. 28 jaar
 D. 76 jaar
9. Mijn schrift is 3 dm lang. De omtrek is 100 cm. Hoeveel dm is de breedte van mijn schrift?
 A. 4 dm
 B. 6 dm
 C. 2 dm
 D. 10 dm
10. Welk deel van deze cirkel is zwart?

 A. $\frac{1}{5}$ deel
 B. $\frac{1}{6}$ deel
 C. $\frac{1}{12}$ deel
 D. $\frac{1}{7}$ deel



Aantal sommen goed . . .

REDACTIESOMMEN 35

Omcirkel het goede antwoord


1. Bakker Fijnproever bakt 6 dagen per week. Elke dag maakt hij 40 taarten.
Hoeveel taarten maakt hij per week?
A. 34
B. 46
C. 240
D. 2.410
2. Moeder verdeelt 4 repen chocolade. Elke reep breekt ze in 3 gelijke stukken.
Hoeveel stukken chocolade heeft moeder?
A. 1
B. 7
C. 10
D. 12
3. In een aquarium zit 50 liter water. Rik schept het water eruit met een emmertje van 5 liter.
Hoeveel keer moet Rik scheppen om het aquarium leeg te maken?
A. 5
B. 10
C. 45
D. 55
4. Een banketbakker maakt 's maandags 63 gebakjes, op dinsdag 75, op woensdag en donderdag elk 35, op vrijdag en zaterdag elk 135 gebakjes.
Hoeveel gebakjes maakt hij per week?
A. 208
B. 308
C. 478
D. 578
5. Bij onze groenteman kosten 4 nectarines € 2,-.
Hoeveel kost 1 nectarine?
A. € 0,50
B. € 0,25
C. € 1,-
D. € 0,75
6. Meester Ben Pieter heeft een groep van 28 kinderen.
Op een dag is $\frac{1}{4}$ deel ziek.
Hoeveel kinderen zijn er ziek?
A. 4
B. 7
C. 21
D. 5
7. Van welke figuur is $\frac{1}{3}$ deel zwart?
I  III 
II  IV 
8. Op welke klok is het 10 over half 2?
A. I
B. II
C. III
D. IV

9. Het is 12 september.
Welke datum is het 2 weken later?
A. 25 september
B. 26 september
C. 27 september
D. 28 september
10. Hoeveel is de 6 waard in het getal 610?
A. 6
B. 60
C. 600
D. 61

Aantal sommen goed . . .



REDACTIESOMMEN 36

Omcirkel het goede antwoord

- Hoeveel is de 8 waard in het getal 586?
A. 8
B. 80
C. 800
D. 86
- Noor vliegt graag. Ze heeft een vliegtouw van 135 m. Later knoopt ze er nog 112 m aan. Hoe lang is nu het vliegtouw van Noor?
A. 23 m
B. 147 m
C. 247 m
D. 347 m
- Hoeveel is $\frac{1}{3}$ deel van 12 meer dan $\frac{1}{5}$ deel van 15?
A. 4
B. 3
C. 2
D. 1
- Hoe laat is het?
19.30 uur is hetzelfde als ...
A. half 8 's morgens
B. half 9 's morgens
C. half 8 's avonds
D. half 9 's avonds
- In een tank van het benzinestation zit 950 liter benzine. Er wordt 338 liter verkocht. Hoeveel liter benzine blijft er nog over?
A. 612
B. 613
C. 912
D. 712
- Joanne weegt 75 kg, Caroline 70 kg, Arjo 65 kg en Hetty 66 kg. Wie is het lichtst?
A. Hetty
B. Caroline
C. Arjo
D. Joanne
- Vader heeft 35 dropstengels. Die verdeelt hij over 5 kinderen. Hoeveel dropstengels krijgt elk kind?
A. 40
B. 7
C. 6
D. 5
- Het lidmaatschap van een club kost € 9,- per kwartaal. Hoeveel is dat per maand?
A. € 9,-
B. € 6,-
C. € 3,-
D. € 1,-
- In welk rijtje staan de getallen van groot naar klein?
I 516 - 615 - 151 - 165
II 615 - 165 - 151 - 516
III 151 - 165 - 516 - 615
IV 615 - 516 - 165 - 151
A. I
B. II
C. III
D. IV
- Van welk vierkant is niet de helft zwart?

A. I
B. II
C. III
D. IV



Aantal sommen goed . . .

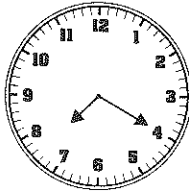
REDACTIESOMMEN 37

Omcirkel het goede antwoord

1. Janneke weegt 70 kg, Aukje 75 kg en Melanie 63 kg. Welk antwoord is goed?

A. Aukje is lichter dan Melanie
 B. Aukje is het zwaarst
 C. Aukje is lichter dan Janneke
 D. Aukje is het lichtst
2. De juf heeft 560 sparappels voor kerststukjes. Ze geeft de helft aan de meester. Hoeveel sparappels heeft zij nog over?

A. 180
 B. 260
 C. 300
 D. 280
3. Hoe laat is het op deze klok?



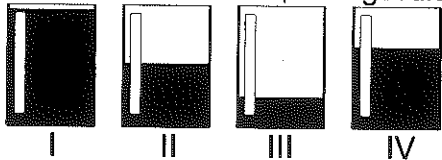
A. 10 over half 8
 B. 10 voor half 8
 C. 10 voor half 4
 D. 10 over half 4
4. In een tank van een benzinstation zit nog 325 liter dieselolie. Er wordt nog 643 liter bij gedaan. Hoeveel liter zit er dan in de tank?

A. 968
 B. 315
 C. 868
 D. 986
5. Eén gevulde koek kost 45 eurocent. Moeder heeft € 1,80. Hoeveel gevulde koeken kan zij daarvoor kopen?

A. 2
 B. 10
 C. 3
 D. 4
6. Bas verliest $\frac{1}{3}$ deel van zijn knikkers. Hij had er 33. Hoeveel knikkers verliest hij?

A. 30
 B. 10
 C. 11
 D. 3
7. Als 19 september op een dinsdag valt, welke dag is het dan op 30 september?

A. vrijdag
 B. zaterdag
 C. zondag
 D. maandag
8. Welke beker is voor $\frac{1}{4}$ deel gevuld?



A. I
 B. II
 C. III
 D. IV
9. Onze tuin is vierkant. Eén zijde is 50 m. Wat is de omtrek?

A. 50 m
 B. 100 m
 C. 150 m
 D. 200 m
10. Tel er telkens 7 bij.
 136 - 143 - 150 - ... - ... - ...

A. 143 - 136 - 129
 B. 157 - 165 - 172
 C. 157 - 163 - 170
 D. 157 - 164 - 171

Aantal sommen goed . . .

5



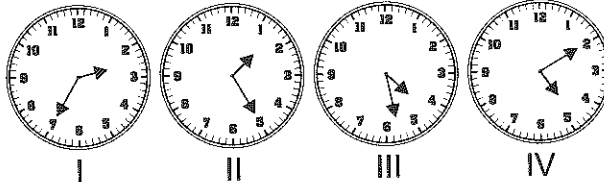
REDACTIESOMMEN 38

Omcirkel het goede antwoord

1. In de groep van juf Henny zitten 25 kinderen. Op een dag is $\frac{1}{5}$ deel ziek.
Hoeveel kinderen telt haar groep dan?

A. 20
B. 5
C. 30
D. 23

2. Op welke klok is het 5 voor half 2?



A. I
B. II
C. III
D. IV

3. Adwin vliegt met een touw van 215 m. De vlieger komt in een boom terecht en er breekt 75 m van het touw af.
Hoeveel touw heeft Adwin nog over?

A. 290 m
B. 130 m
C. 75 m
D. 140 m

4. Het is vandaag 11 mei.
Welke datum was het een week geleden?

A. 2 mei
B. 3 mei
C. 4 mei
D. 5 mei

5. Boer Braks oogst van een akker 280 zakken aardappels en van een andere akker 360 zakken.
Hoeveel zakken aardappels heeft de boer totaal?

A. 360
B. 640
C. 60
D. 540

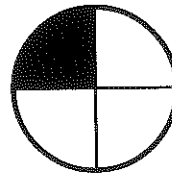
6. Rosalien koopt bij een boekhandel een potlood voor € 0,25.
Hoeveel moet zij voor één dozijn potloden betalen?

A. € 3,-
B. € 2,50
C. € 2,-
D. € 2,75

7. Hoeveel is de helft van 80 meer dan 3 keer 12?

A. 16
B. 5
C. 36
D. 4

8. Welk deel van de cikel is zwart?



A. $\frac{1}{6}$
B. $\frac{1}{4}$
C. $\frac{1}{5}$
D. $\frac{1}{7}$

9. In welk rijtje staan de getallen van klein naar groot?

I 138 - 381 - 813 - 183
II 138 - 183 - 381 - 813
III 183 - 138 - 813 - 381
IV 813 - 381 - 183 - 138

A. I
B. II
C. III
D. IV

10. Vader is 180 cm lang. Moeder is 182 cm lang.
Christian meet 179 cm en Jelle 190 cm.
Wie is het kleinst?

A. Jelle
B. Christian
C. vader
D. moeder

5



Aantal sommen goed . . .