



## 1 De milieuactie.



	blikjes	batterijen	oud papier	kg
groep 4	136	78	482	
groep 5	243	284	375	
groep 6	355	206	439	
totaal				




- Hoeveel hebben de groepen opgehaald?
- Hoeveel blikjes had groep 6 meer dan groep 4?
- Hoeveel batterijen had groep 5 meer dan groep 4?

**2 Bomen planten.**


- a De 74 kinderen van groep 4, 5 en 6 gaan bomen planten.  
 Ze doen dat op een stuk grond net buiten de stad.  
 Ze gaan er met auto's naartoe. In elke auto kunnen 4 kinderen zitten.  
 Hoeveel auto's moeten er rijden?



- b Er blijven 6 ouders om mee te helpen.  
 Elke ouder gaat met een groepje kinderen mee.  
 Ze willen even grote groepjes maken.  
 Hoeveel kinderen komen er in elk groepje?



- c De kinderen hebben 165 jonge boompjes gekocht.  
 In één kruitwagen kunnen 10 boompjes.  
 Hoe vaak moeten ze de kruitwagens vol laden?



**3 Delen met rest. Reken uit.**

$58 : 10 =$	$74 : 10 =$
$58 : 6 =$	$74 : 5 =$
$58 : 7 =$	$74 : 6 =$
$58 : 8 =$	$74 : 4 =$
$58 : 5 =$	$74 : 11 =$